

제 2 교시

수학 영역

KSM

출수형

5지선다형

1. $\sqrt[3]{5} \times 25^{\frac{1}{3}}$ 의 값은? [2점]

- ① 1
- ② 2
- ③ 3
- ④ 4
- ⑤ 5

2. 함수 $f(x) = x^3 - 8x + 7$ 에 대하여 $\lim_{h \rightarrow 0} \frac{f(2+h) - f(2)}{h}$ 의 값은? [2점]

- ① 1
- ② 2
- ③ 3
- ④ 4
- ⑤ 5

$f'(x) = 3x^2 - 8$

$f'(2) = 12 - 8 = 4$

3. 첫째항과 공비가 모두 양수 k 인 등비수열 $\{a_n\}$ 이

$$\frac{a_4}{a_2} + \frac{a_2}{a_1} = 30$$

을 만족시킬 때, k 의 값은? [3점]

- ① 1
- ② 2
- ③ 3
- ④ 4
- ⑤ 5

$r^2 + r = 30$

$(r+6)(r-5) = 0$

$r = 5 \quad (\because r > 0)$

4. 함수

$$f(x) = \begin{cases} 5x + a & (x < -2) \\ x^2 - a & (x \geq -2) \end{cases}$$

가 실수 전체의 집합에서 연속일 때, 상수 a 의 값은? [3점]

- ① 6
- ② 7
- ③ 8
- ④ 9
- ⑤ 10

$-10 + a = 4 - a$

$a = 7$

5. 함수 $f(x) = (x^2 + 1)(3x^2 - x)$ 에 대하여 $f'(1)$ 의 값은? [3점]

- ① 8 ② 10 ③ 12 ④ 14 ⑤ 16

$$f'(x) = 2x(3x^2 - x) + (x^2 + 1)(6x - 1)$$

$$f'(1) = 4 + 10 = 14$$

6. $\cos\left(\frac{\pi}{2} + \theta\right) = -\frac{1}{5}$ 일 때, $\frac{\sin\theta}{1 - \cos^2\theta}$ 의 값은? [3점]

- ① -5 ② $-\sqrt{5}$ ③ 0 ④ $\sqrt{5}$ ⑤ 5

$$-\sin\theta = -\frac{1}{5}$$

$$\sin\theta = \frac{1}{5}$$

$$\frac{\sin\theta}{\sin^2\theta} = \frac{1}{\sin\theta} = 5$$

7. 다항함수 $f(x)$ 가 모든 실수 x 에 대하여

$$\int_0^x f(t) dt = 3x^3 + 2x$$

를 만족시킬 때, $f(1)$ 의 값은? [3점]

- ① 7 ② 9 ③ 11 ④ 13 ⑤ 15

$$f(x) = 9x^2 + 2$$

$$f(1) = 11$$

8. 두 실수 $a = 2\log \frac{1}{\sqrt{10}} + \log_2 20$, $b = \log 2$ 에 대하여 $a \times b$ 의 값은? [3점]

- ① 1 ② 2 ③ 3 ④ 4 ⑤ 5

$$a = -1 + (1 + \log_2 10) = \log_2 10$$

$$b = \log_2 2$$

$$ab = 1$$

9. 함수 $f(x) = 3x^2 - 16x - 20$ 에 대하여

$$\int_{-2}^a f(x) dx = \int_{-2}^0 f(x) dx$$

일 때, 양수 a 의 값은? [4점]

- ① 16 ② 14 ③ 12 ④ 10 ⑤ 8

$$\int_{-2}^a f + \int_0^{-2} f = \int_0^a f = 0$$

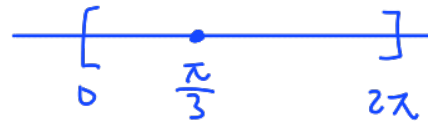
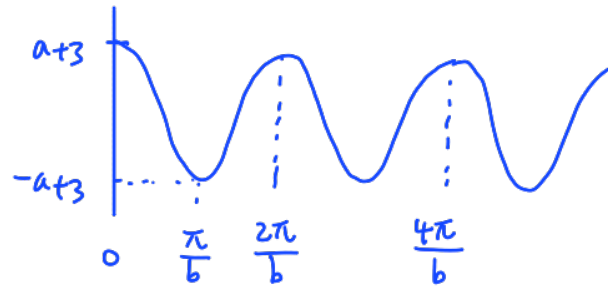
$$x^3 - 8x^2 - 20x \Big|_0^a = a(a+2)(a-10) = 0$$

$$a = 10 \quad (\because a > 0)$$

10. 닫힌구간 $[0, 2\pi]$ 에서 정의된 함수 $f(x) = a \cos bx + 3$ 이

$x = \frac{\pi}{3}$ 에서 최댓값 13을 갖도록 하는 두 자연수 a, b 의 순서쌍 (a, b) 에 대하여 $a+b$ 의 최솟값은? [4점]

- ① 12 ② 14 ③ 16 ④ 18 ⑤ 20



최댓값

$$\frac{\pi}{3} = \frac{2n\pi}{b}$$

$$13 = a+3, a=10$$

$$b = 6n \quad a+b \text{ 최솟값}$$

$$b=6, a=10$$

$$a+b=16$$

11. 시각 $t=0$ 일 때 출발하여 수직선 위를 움직이는 점 P의 시각 $t(t \geq 0)$ 에서의 위치 x 가

$$x = t^3 - \frac{3}{2}t^2 - 6t$$

이다. 출발한 후 점 P의 운동 방향이 바뀌는 시각에서의 점 P의 가속도는? [4점]

- ① 6 ② 9 ③ 12 ④ 15 ⑤ 18

$$\begin{aligned} v(t) &= 3t^2 - 3t - 6 \\ &= 3(t-2)(t+1) \quad t=2 \end{aligned}$$

$$a(t) = 6t - 3$$

$$a(2) = 12 - 3 = 9$$

12. $a_1 = 2$ 인 수열 $\{a_n\}$ 과 $b_1 = 2$ 인 등차수열 $\{b_n\}$ 이 모든 자연수 n 에 대하여

$$\sum_{k=1}^n \frac{a_k}{b_{k+1}} = \frac{1}{2}n^2$$

을 만족시킬 때, $\sum_{k=1}^5 a_k$ 의 값은? [4점]

- ① 120 ② 125 ③ 130 ④ 135 ⑤ 140

$$\frac{a_n}{b_{n+1}} = n - \frac{1}{2}, \quad a_n = (n - \frac{1}{2})b_{n+1}$$

$$a_1 = \frac{1}{2}b_2, \quad b_2 = 4, \quad b_1 = 2$$

$$b_n = 2n, \quad b_{n+1} = 2(n+1)$$

$$\therefore a_n = (2n-1)(n+1) = 2n^2 + n - 1$$

$$\sum_{k=1}^5 a_k = \sum_{k=1}^5 (2k^2 + k - 1)$$

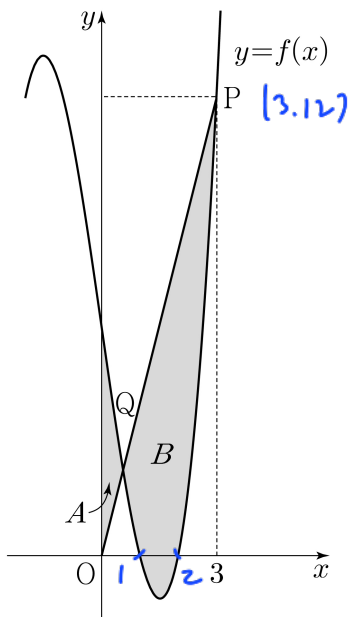
$$= 2 \cdot \frac{5 \cdot 6 \cdot 11}{6} + \frac{5 \cdot 6}{2} - 5 = 120$$

13. 최고차항의 계수가 1인 삼차함수 $f(x)$ 가

$$f(1) = f(2) = 0, \quad f'(0) = -7$$

을 만족시킨다. 원점 O 와 점 $P(3, f(3))$ 에 대하여 선분 OP 가 곡선 $y=f(x)$ 와 만나는 점 중 P 가 아닌 점을 Q 라 하자. 곡선 $y=f(x)$ 와 y 축 및 선분 OQ 로 둘러싸인 부분의 넓이를 A , 곡선 $y=f(x)$ 와 선분 PQ 로 둘러싸인 부분의 넓이를 B 라 할 때, $B-A$ 의 값은? [4점]

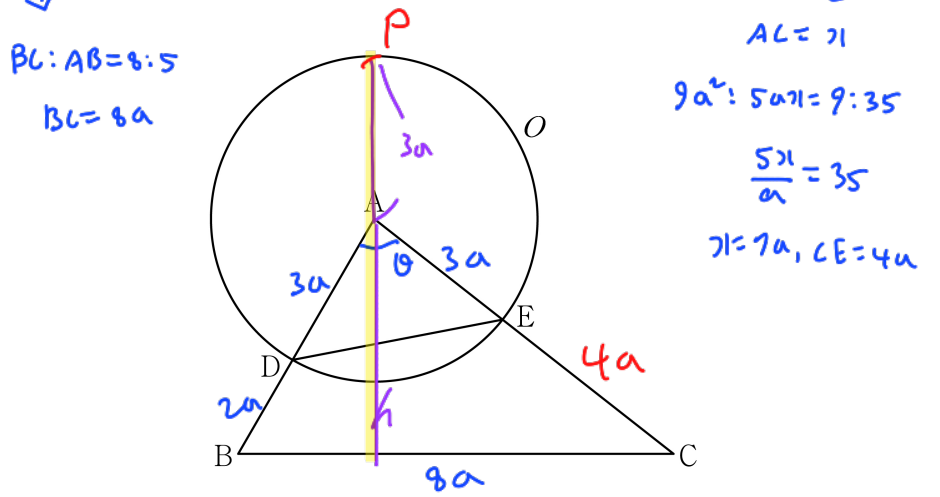
- ① $\frac{37}{4}$ ② $\frac{39}{4}$ ③ $\frac{41}{4}$ ④ $\frac{43}{4}$ ⑤ $\frac{45}{4}$



$f(x) = (x-1)(x-2)(x+k)$ $x^3 - 1x^2 + 6x - 2k$
 $f'(0) = 2-k-2k = -7, \quad k=3$ $f(3) = 12$
 $\leftarrow OP: y=4x$
 $B-A = \int_0^3 (4x - f(x)) dx = \int_0^3 (-x^2 + 11x - 6) dx$
 $= -\frac{61}{4} + \frac{99}{2} - 18 = \frac{198-153}{4}$
 $= \frac{45}{4}$

14. 그림과 같이 삼각형 ABC 에서 선분 AB 위에 $\overline{AD} : \overline{DB} = 3:2$ 인 점 D 를 잡고, 점 A 를 중심으로 하고 점 D 를 지나는 원을 O , 원 O 와 선분 AC 가 만나는 점을 E 라 하자.

$\sin A : \sin C = 8:5$ 이고, 삼각형 ADE 와 삼각형 ABC 의 넓이의 비가 $9:35$ 이다. 삼각형 ABC 의 외접원의 반지름의 길이가 7일 때, 원 O 위의 점 P 에 대하여 삼각형 PBC 의 넓이의 최댓값은? (단, $\overline{AB} < \overline{AC}$) [4점]



- ① $18 + 15\sqrt{3}$ ② $24 + 20\sqrt{3}$ ③ $30 + 25\sqrt{3}$
 ④ $36 + 30\sqrt{3}$ ⑤ $42 + 35\sqrt{3}$

$$\cos \theta = \frac{25+49-64}{2 \cdot 5 \cdot 7} = \frac{10}{70} = \frac{1}{7}, \quad \sin \theta = \frac{4\sqrt{3}}{7}$$

$$\Delta ABC \rightarrow \frac{8a}{\sin \theta} = 14, \quad a = \frac{7 \cdot 4\sqrt{3}}{4} = \sqrt{3}$$

$$\Delta ABC \rightarrow \frac{1}{2} \cdot 5a \cdot 7a \cdot \sin \theta = \frac{1}{2} \cdot 8a \cdot h$$

$$h = \frac{35a}{8} \sin \theta = \frac{35}{8} \sqrt{3} \cdot \frac{4\sqrt{3}}{7} = \frac{15}{2}$$

$$\Delta PBC \text{의 최댓값} = \frac{1}{2} \times 8a \times (h+3a)$$

$$= 4\sqrt{3} \left(\frac{15}{2} + 3\sqrt{3} \right) = 36 + 30\sqrt{3}$$

15. 상수 $a(a \neq 3\sqrt{5})$ 와 최고차항의 계수가 음수인 이차함수 $f(x)$ 에 대하여 함수

$$g(x) = \begin{cases} x^3 + ax^2 + 15x + 7 & (x \leq 0) \\ f(x) & (x > 0) \end{cases}$$

이 다음 조건을 만족시킨다.

- (가) 함수 $g(x)$ 는 실수 전체의 집합에서 미분가능하다.
- (나) x 에 대한 방정식 $g'(x) \times g'(x-4) = 0$ 의 서로 다른 실근의 개수는 4이다.

$g(-2) + g(2)$ 의 값은? [4점]

- ① 30 ② 32 ③ 34 ④ 36 ⑤ 38

Handwritten solution for problem 15:

$7 = f(0)$
 $15 = f(0)$) $f(x) = px^2 + 15x + 7$

$g'(x) = 0 \quad \alpha \quad \beta \quad 6$
 $g'(x-4) = 0 \quad \alpha+4 \quad \beta+4 \quad 6+4$
 $\beta - \alpha = 4, \quad 6 - \beta = 4$

$3x^2 + 2ax + 15$
 $a(2+4) = 5 \quad (2+5)(2-1) = 0$
 $a = -5 \quad -6 = \frac{-2a}{3}$
 $2 + (2+4) = \frac{-2a}{3} \quad \beta = -1 \quad 6 = 3 \quad a = 9$

$f'(3) = 6p + 15 = 0 \quad p = -\frac{5}{2}$
 $f(x) = -\frac{5}{2}x^2 + 15x + 7$
 $g(2) = -10 + 30 + 7 = 27$
 $g(-2) = -8 + 36 - 30 + 7 = 5$) 32

단답형

16. 방정식

$$\log_2(x-3) = \log_4(3x-5)$$

를 만족시키는 실수 x 의 값을 구하시오. [3점]

Handwritten solution for problem 16:

$x > 3, \quad (x-3)^2 = 3x-5 \quad \boxed{7}$
 $x^2 - 9x + 14 = 0$
 $(x-2)(x-7) = 0$
 $\therefore x = 7 (\because x > 3)$

17. 다항함수 $f(x)$ 에 대하여 $f'(x) = 9x^2 + 4x$ 이고 $f(1) = 6$ 일 때, $f(2)$ 의 값을 구하시오. [3점]

Handwritten solution for problem 17:

$f(x) = 3x^3 + 2x^2 + 1 \quad \boxed{33}$
 $f(2) = 24 + 8 + 1 = 33$

18. 수열 $\{a_n\}$ 이 모든 자연수 n 에 대하여

$$a_n + a_{n+4} = 12$$

를 만족시킬 때, $\sum_{n=1}^{16} a_n$ 의 값을 구하시오. [3점]

96

$$\left. \begin{array}{l} a_1 + a_5 = 12 \\ a_2 + a_6 = 12 \\ a_3 + a_7 = 12 \\ a_4 + a_8 = 12 \end{array} \right\} 48$$

$$\sum_1^8 a_n + \sum_9^{16} a_n = 48 + 48 = 96$$

19. 양수 a 에 대하여 함수 $f(x)$ 를

$$f(x) = 2x^3 - 3ax^2 - 12a^2x$$

라 하자. 함수 $f(x)$ 의 극댓값이 $\frac{7}{27}$ 일 때, $f(3)$ 의 값을

구하시오. [3점]

41

$$f'(x) = 6x^2 - 6ax - 12a^2$$

$$= 6(x-2a)(x+a)$$



$$f(-a) = -2a^3 - 3a^3 + 12a^3 = 7a^3 = \frac{7}{27}, a = \frac{1}{3}$$

$$f(x) = 2x^3 - x^2 - \frac{4}{3}x$$

$$f(3) = 54 - 9 - 4 = 41$$

20. 곡선 $y = \left(\frac{1}{5}\right)^{x-3}$ 과 직선 $y=x$ 가 만나는 점의 x 좌표를

k 라 하자. 실수 전체의 집합에서 정의된 함수 $f(x)$ 가 다음 조건을 만족시킨다.

$x > k$ 인 모든 실수 x 에 대하여

$$f(x) = \left(\frac{1}{5}\right)^{x-3} \text{ 이고 } f(f(x)) = 3x \text{ 이다.}$$

$f\left(\frac{1}{k^3 \times 5^{3k}}\right)$ 의 값을 구하시오. [4점]

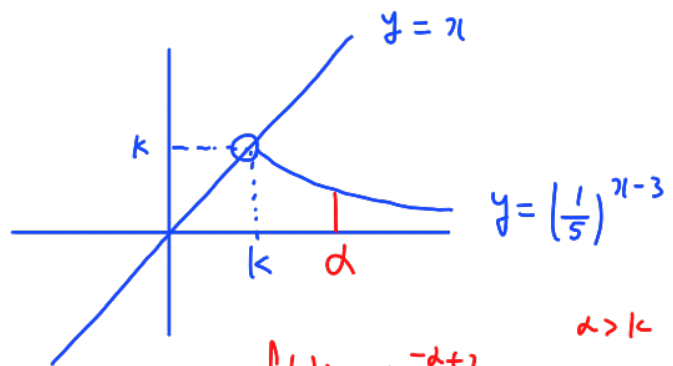
36

$$\left. \begin{array}{l} \left(\frac{1}{5}\right)^{k-3} = k \\ k \cdot 5^k = 5^3 \\ k^3 \cdot 5^{3k} = 5^9 \end{array} \right\} f(5^{-9})$$

$$\left(\frac{1}{5}\right)^{k-3} = k$$

$$\begin{array}{cc} 5 & 2 \\ 1 & 3 \end{array}$$

$$2 < k < 3$$



$$f(d) = 5^{-d+3}$$

$$\begin{array}{l} d > k \\ 5^{-d+3} < k \end{array}$$

$$d > k \rightarrow f(f(d)) = 3d$$

$$f(5^{-d+3}) = 3d$$

$$d=12 \rightarrow f(5^{-9}) = 36$$

$$2 < k < 3$$

21. 함수 $f(x) = x^3 + ax^2 + bx + 4$ 가 다음 조건을 만족시키도록 하는 두 정수 a, b 에 대하여 $f(1)$ 의 최댓값을 구하시오. [4점]

16

모든 실수 α 에 대하여 $\lim_{x \rightarrow \alpha} \frac{f(2x+1)}{f(x)}$ 의 값이 존재한다.

$f(d)=0 \rightarrow f(2d+1)=0 \rightarrow f(4d+2)=0 \rightarrow f(8d+3)=0 \rightarrow \dots$

$f(x)$ 는 3차항수 $\therefore d=2d+1 \quad d=-1$

$f(x) = (x+1)(x^2+px+4)$

$(x+1)^2$ or DC0
or x^2+px+4

$\therefore p^2-16 < 0 \quad -4 < p < 4$

$x^3 + (p+1)x^2 + (p+4)x + 4$
 $a = p+1$
 $b = p+4$
 $a \& b$ 정수 $\rightarrow p$: 정수

$f(1) = 2(p+5)$ 최댓값

$p=3 \rightarrow 16$

22. 모든 항이 정수이고 다음 조건을 만족시키는 모든 수열 $\{a_n\}$ 에 대하여 $|a_1|$ 의 값의 합을 구하시오. [4점]

64

(가) 모든 자연수 n 에 대하여

$$a_{n+1} = \begin{cases} a_n - 3 & (|a_n| \text{이 홀수인 경우}) \\ \frac{1}{2}a_n & (a_n = 0 \text{ 또는 } |a_n| \text{이 짝수인 경우}) \end{cases}$$

이다.

(나) $|a_m| = |a_{m+2}|$ 인 자연수 m 의 최솟값은 3이다.

$|a_3| = |a_5| \quad |a_1| \neq |a_3| \quad |a_2| \neq |a_4|$

$a_n = \begin{cases} a_{n+1} + 3 & (|a_n|: \text{홀수}) \\ 2a_{n+1} & (|a_n|: \text{짝수}) \end{cases}$

$d < \begin{cases} d-3 & (x) \\ \frac{d-3}{2} \Rightarrow d = -3/1 \\ \frac{d-3}{2} \Rightarrow d = -b/2 \\ \frac{d}{4} \Rightarrow d = 0 \end{cases}$

a_1	a_2	a_3	a_4	a_5
	-6	-3	-6	-3
	2	1	-2	-1
-9	-3	-6	-3	-6
-24	-12			
10	5	2	1	-2
7	4			
8				
6	3	0	0	0

\downarrow
 $-9 + -24 + 10 + 7 + 8 + 6 = 64$

* 확인 사항

- 답안지의 해당란에 필요한 내용을 정확히 기입(표기)했는지 확인하시오.
- 이어서, 「선택과목(확률과 통계)」 문제가 제시되오니, 자신이 선택한 과목인지 확인하시오.

5지선다형

23. 다항식 $(x^3 + 2)^5$ 의 전개식에서 x^6 의 계수는? [2점]

- ① 40 ② 50 ③ 60 ④ 70 ⑤ 80

$$5 \binom{5}{2} \times 2^3 = 80$$

24. 두 사건 A, B 에 대하여

$$P(A|B) = P(A) = \frac{1}{2}, \quad P(A \cap B) = \frac{1}{5}$$

일 때, $P(A \cup B)$ 의 값은? [3점]

- ① $\frac{1}{2}$ ② $\frac{3}{5}$ ③ $\frac{7}{10}$ ④ $\frac{4}{5}$ ⑤ $\frac{9}{10}$

$$\frac{P(A \cap B)}{P(B)} = \frac{1}{2}$$

$$P(B) = 2P(A \cap B) = \frac{2}{5}$$

$$\begin{aligned}
 P(A \cup B) &= P(A) + P(B) - P(A \cap B) \\
 &= \frac{1}{2} + \frac{2}{5} - \frac{1}{5} = \frac{7}{10}
 \end{aligned}$$

25. 정규분포 $N(m, 2^2)$ 을 따르는 모집단에서 크기가 256인 표본을 임의추출하여 얻은 표본평균을 이용하여 구한 m 에 대한 신뢰도 95%의 신뢰구간이 $a \leq m \leq b$ 이다. $b-a$ 의 값은? (단, Z 가 표준정규분포를 따르는 확률변수일 때, $P(|Z| \leq 1.96) = 0.95$ 로 계산한다.) [3점]

- ① 0.49 ② 0.52 ③ 0.55 ④ 0.58 ⑤ 0.61

$$2 \times 1.96 \times \frac{2}{\sqrt{256}} = \frac{1.96}{4} = 0.49$$

26. 어느 학급의 학생 16명을 대상으로 과목 A와 과목 B에 대한 선호도를 조사하였다. 이 조사에 참여한 학생은 과목 A와 과목 B 중 하나를 선택하였고, 과목 A를 선택한 학생은 9명, 과목 B를 선택한 학생은 7명이다. 이 조사에 참여한 학생 16명 중에서 임의로 3명을 선택할 때, 선택한 3명의 학생 중에서 적어도 한 명이 과목 B를 선택한 학생일 확률은? [3점]

- ① $\frac{3}{4}$ ② $\frac{4}{5}$ ③ $\frac{17}{20}$ ④ $\frac{9}{10}$ ⑤ $\frac{19}{20}$

$$1 - \frac{9C_3}{16C_3} = 1 - \frac{9 \cdot 8 \cdot 7}{16 \cdot 15 \cdot 14} = 1 - \frac{3}{20} = \frac{17}{20}$$


27. 숫자 1, 3, 5, 7, 9가 각각 하나씩 적혀 있는 5장의 카드가 들어 있는 주머니가 있다. 이 주머니에서 임의로 1장의 카드를 꺼내어 카드에 적혀 있는 수를 확인한 후 다시 넣는 시행을 한다. 이 시행을 3번 반복하여 확인한 세 개의 수의 평균을 \bar{X} 라 하자. $V(a\bar{X}+6) = 24$ 일 때, 양수 a 의 값은? [3점]

- ① 1 ② 2 ③ 3 ④ 4 ⑤ 5

$E(X) = 5$

$V(X) = \frac{16+4+0+4+16}{5} = 8$

$V(\bar{X}) = \frac{8}{3}$



$a^2 V(\bar{X}) = 24$

$a^2 \times \frac{8}{3} = 24, a^2 = 9, a = 3$

28. 집합 $X = \{1, 2, 3, 4, 5, 6\}$ 에 대하여 다음 조건을 만족시키는 함수 $f: X \rightarrow X$ 의 개수는? [4점]

- (가) $f(1) \times f(6)$ 의 값이 6의 약수이다. (1, 2, 3, 6)
 (나) $2f(1) \leq f(2) \leq f(3) \leq f(4) \leq f(5) \leq 2f(6)$

- ① 166 ② 171 ③ 176 ④ 181 ⑤ 186

$1 \leq f(i) \leq 3$

$f(1)$	$f(6)$	
1	1	$\rightarrow 1$
1	2	$\rightarrow 3H_4 = 15$
1	3	$\rightarrow 5H_4 = 70$
1	6	$\rightarrow 5H_4 = 70$
2	3	$\rightarrow 3H_4 = 15$

(7)

단답형

29. 정규분포 $N(m_1, \sigma_1^2)$ 을 따르는 확률변수 X 와 정규분포 $N(m_2, \sigma_2^2)$ 을 따르는 확률변수 Y 가 다음 조건을 만족시킨다.

모든 실수 x 에 대하여
 $P(X \leq x) = P(X \geq 40 - x)$ 이고 $m_1 = 20$ $\sigma_1 = \sigma_2$
 $P(Y \leq x) = P(X \leq x + 10)$ 이다. $m_2 = 10$

$P(15 \leq X \leq 20) + P(15 \leq Y \leq 20)$ 의 값을 오른쪽 표준정규분포표를 이용하여 구한 것이 0.4772일 때, $m_1 + \sigma_2$ 의 값을 구하시오.
 (단, σ_1 과 σ_2 는 양수이다.) [4점]

z	$P(0 \leq Z \leq z)$
0.5	0.1915
1.0	0.3413
1.5	0.4332
2.0	0.4772

25

$$P\left(\frac{5}{\sigma_1} \leq Z \leq 0\right) + P\left(\frac{5}{\sigma_1} \leq Z \leq \frac{10}{\sigma_1}\right)$$

$$= P\left(0 \leq Z \leq \frac{10}{\sigma_1}\right) = 0.4772, \quad \frac{10}{\sigma_1} = 2, \quad \sigma_1 = 5 = \sigma_2$$

$$\therefore m_1 + \sigma_2 = 20 + 5 = 25$$

30. 탁자 위에 5개의 동전이 일렬로 놓여 있다. 이 5개의 동전 중 1번째 자리와 2번째 자리의 동전은 앞면이 보이도록 놓여 있고, 나머지 자리의 3개의 동전은 뒷면이 보이도록 놓여 있다. 이 5개의 동전과 한 개의 주사위를 사용하여 다음 시행을 한다.

주사위를 한 번 던져 나온 눈의 수가 k 일 때,
 $k \leq 5$ 이면 k 번째 자리의 동전을 한 번 뒤집어 제자리에 놓고,
 $k = 6$ 이면 모든 동전을 한 번씩 뒤집어 제자리에 놓는다.

위의 시행을 3번 반복한 후 이 5개의 동전이 모두 앞면이 보이도록 놓여 있을 확률은 $\frac{q}{p}$ 이다. $p+q$ 의 값을 구하시오.
 (단, p 와 q 는 서로소인 자연수이다.) [4점]

19



$$\begin{matrix} 3 & 4 & 5 & \rightarrow & 3! \times \left(\frac{1}{6}\right)^3 & = & \frac{1}{36} \\ 1 & 2 & 6 & \rightarrow & 3! \times \left(\frac{1}{6}\right)^3 & = & \frac{1}{36} \end{matrix} \quad \left. \vphantom{\begin{matrix} 3 \\ 1 \end{matrix}} \right) \frac{1}{18} = \frac{q}{p}$$

* 확인 사항

- 답안지의 해당란에 필요한 내용을 정확히 기입(표기)했는지 확인하시오.
- 이어서, 「선택과목(미적분)」 문제가 제시되오니, 자신이 선택한 과목인지 확인하시오.

제 2 교시

수학 영역(미적분)

출수형

5지선다형

23. $\lim_{x \rightarrow 0} \frac{3x^2}{\sin^2 x}$ 의 값은? [2점]

- ① 1
- ② 2
- ③ 3
- ④ 4
- ⑤ 5

24. $\int_0^{10} \frac{x+2}{x+1} dx$ 의 값은? [3점]

- ① $10 + \ln 5$
- ② $10 + \ln 7$
- ③ $10 + 2\ln 3$
- ④ $10 + \ln 11$
- ⑤ $10 + \ln 13$

$$\int_0^{10} \left(1 + \frac{1}{x+1}\right) dx = \left[x + \ln|x+1|\right]_0^{10}$$

$$= 10 + \ln 11$$

25. 수열 $\{a_n\}$ 에 대하여 $\lim_{n \rightarrow \infty} \frac{na_n}{n^2+3} = 1$ 일 때,

$\lim_{n \rightarrow \infty} (\sqrt{a_n^2+n} - a_n)$ 의 값은? [3점]

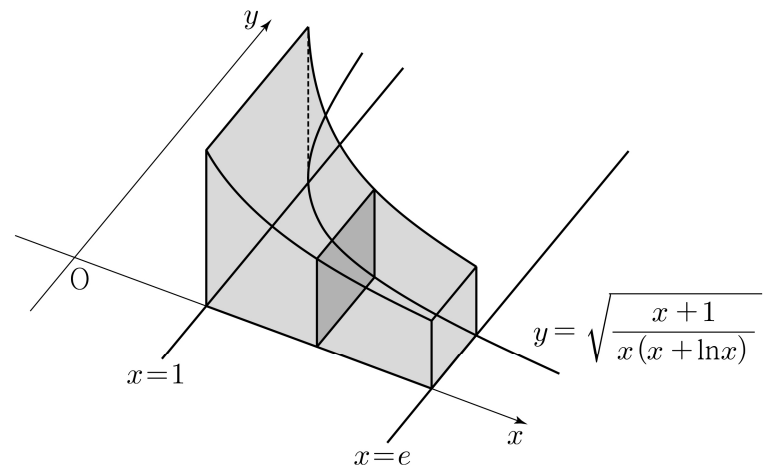
- ① $\frac{1}{3}$ ② $\frac{1}{2}$ ③ 1 ④ 2 ⑤ 3

$$\frac{na_n}{n^2+3} = b_n, \quad a_n = \frac{n^2+3}{n} b_n, \quad \lim_{n \rightarrow \infty} b_n = 1$$

$$\lim_{n \rightarrow \infty} \frac{a_n}{n} = 1$$

$$\begin{aligned} \lim_{n \rightarrow \infty} \frac{n}{\sqrt{a_n^2+n} + a_n} &= \lim_{n \rightarrow \infty} \frac{1}{\sqrt{\frac{a_n^2}{n} + \frac{1}{n}} + \frac{a_n}{n}} \\ &= \frac{1}{1+1} = \frac{1}{2} \end{aligned}$$

26. 그림과 같이 곡선 $y = \sqrt{\frac{x+1}{x(x+\ln x)}}$ 과 x 축 및 두 직선 $x=1, x=e$ 로 둘러싸인 부분을 밑면으로 하는 입체도형이 있다. 이 입체도형을 x 축에 수직인 평면으로 자른 단면이 모두 정사각형일 때, 이 입체도형의 부피는? [3점]



- ① $\ln(e+1)$ ② $\ln(e+2)$ ③ $\ln(e+3)$
 ④ $\ln(2e+1)$ ⑤ $\ln(2e+2)$

$$\int_1^e \frac{x+1}{x(x+\ln x)} dx \quad \begin{aligned} x+\ln x &= t \\ (1+\frac{1}{x})dx &= dt \\ \frac{x+1}{x} dx &= dt \end{aligned}$$

$$\int_1^{e+1} \frac{1}{t} dt = \ln(e+1)$$

27. 최고차항의 계수가 1인 삼차함수 $f(x)$ 에 대하여 함수 $g(x)$ 를

$$g(x) = f(e^x) + e^x$$

이라 하자. 곡선 $y = g(x)$ 위의 점 $(0, g(0))$ 에서의 접선이 x 축이고 함수 $g(x)$ 가 역함수 $h(x)$ 를 가질 때, $h'(8)$ 의 값은?

[3점]

- ① $\frac{1}{36}$ ② $\frac{1}{18}$ ③ $\frac{1}{12}$ ④ $\frac{1}{9}$ ⑤ $\frac{5}{36}$

$$g'(x) = e^x f'(e^x) + e^x = e^x (f'(e^x) + 1)$$

$$g'(0) = f'(1) + 1 = 0, \quad f'(1) = -1$$

$$g'(1) = f'(e) + 1 = 0, \quad f'(e) = -1$$

f'

$$g'(x) = e^x (f'(e^x) + 1) \geq 0 \quad (\because g \text{ 역함수 존재})$$

$$f'(e^x) \geq -1 \quad e^x > 0 \quad f'(1) = -1, \quad f'(e) = -1$$



$$f'(x) = 3(x-1)^2 - 1$$

$$f(x) = (x-1)^3 - x \quad (f(1) = -1)$$

$$g'(x) = (e^x - 1)^3 - e^x + e^x = (e^x - 1)^3, \quad g'(1/3) = 8$$

$$g'(7) = 3(e^7 - 1)^2 e^7$$

$$h'(8) = \frac{1}{g'(h(8))} = \frac{1}{g'(1/3)} = \frac{1}{8}$$

28. 실수 전체의 집합에서 미분가능한 함수 $f(x)$ 의 도함수 $f'(x)$ 가

$$f'(x) = -x + e^{1-x^2}$$

이다. 양수 t 에 대하여 곡선 $y = f(x)$ 위의 점 $(t, f(t))$ 에서의 접선과 곡선 $y = f(x)$ 및 y 축으로 둘러싸인 부분의 넓이를 $g(t)$ 라 하자. $g(1) + g'(1)$ 의 값은? [4점]


- ① $\frac{1}{2}e + \frac{1}{2}$ ② $\frac{1}{2}e + \frac{2}{3}$ ③ $\frac{1}{2}e + \frac{5}{6}$

- ④ $\frac{2}{3}e + \frac{1}{2}$ ⑤ $\frac{2}{3}e + \frac{2}{3}$

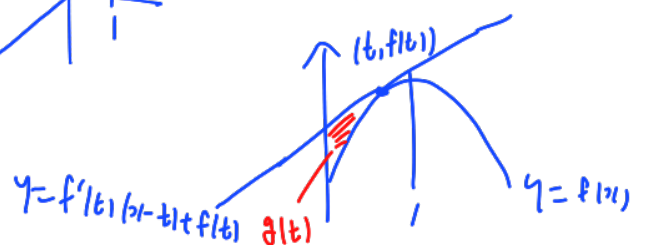
$$e^{-x^2} = g$$

$$f'' = -1 - 2xe^{1-x^2}$$

$$x > 0 \rightarrow f'' < 0$$



f' \oplus | \ominus



$$g(t) = \int_0^t \{ f'(x)(x-t) + f(t) - f(x) \} dx$$

$$= \left[\frac{f'(t)}{2} x^2 - (t f'(t)) x + f(t)x \right]_0^t - \int_0^t f(x) dx$$

$$= -\frac{t^2}{2} f'(t) + t f(t) - \int_0^t f(x) dx$$

$$g'(t) = -t f'(t) - \frac{t^2}{2} f''(t) + f(t) + t f'(t) - f(t)$$

$$g'(t) = -\frac{t^2}{2} f''(t) = \frac{t^2}{2} + t^3 e^{1-t^2}$$

$$g'(1) = \frac{1}{2} + 1 = \frac{3}{2}$$

$$g(1) = -\frac{1}{2} f'(1) + f(1) - \int_0^1 f(x) dx$$

$$= 0 + f(1) - \left[x f(x) \right]_0^1 + \int_0^1 x f'(x) dx$$

$$= \int_0^1 (-x^2 + x e^{1-x^2}) dx$$

$$= \left[-\frac{1}{3} x^3 + \left(-\frac{1}{2}\right) e^{1-x^2} \right]_0^1 = \left(-\frac{1}{3} - \frac{1}{2}\right) - \left(-\frac{1}{2}e\right)$$

$$= \frac{1}{2}e - \frac{5}{6}$$

$$\therefore g'(1) + g(1) = \frac{1}{2}e + \frac{2}{3}$$

단답형

29. 등비수열 $\{a_n\}$ 이

$$\sum_{n=1}^{\infty} (|a_n| + a_n) = \frac{40}{3}, \quad \sum_{n=1}^{\infty} (|a_n| - a_n) = \frac{20}{3}$$

을 만족시킨다. 부등식

$$\lim_{n \rightarrow \infty} \sum_{k=1}^{2n} \left((-1)^{\frac{k(k+1)}{2}} \times a_{m+k} \right) > \frac{1}{700}$$

을 만족시키는 모든 자연수 m 의 값의 합을 구하시오. [4점]

$a_n = ar^{n-1}$ $\sum_1^{\infty} |a_n| = 10, \quad \sum_1^{\infty} a_n = \frac{10}{3}$ 25

$r < 0$ $\frac{a}{1-r} = \frac{10}{3} \Rightarrow r < 1$

$a > 0, r < 0$ $\frac{a}{1+r} = 10 \Rightarrow \frac{1-r}{1+r} = 3, r = -\frac{1}{2}, a = 5$

$a < 0, r < 0$ $\frac{-a}{1+r} = 10 \Rightarrow \frac{r-1}{1+r} = 3, r = -2$ (x)

$\therefore a_n = 5(-\frac{1}{2})^{n-1}$

$(-1)^{\frac{k(k+1)}{2}} \rightarrow -1, -1, 1, 1, -1, -1, 1, 1, \dots$

$(-a_{m+1} - a_{m+2}) + (a_{m+3} + a_{m+4}) - a_{m+5} \dots$

$= \underbrace{(-5(-\frac{1}{2})^m - 5(-\frac{1}{2})^{m+1})}_{-5(-\frac{1}{2})^m(\frac{1}{2})} + (5(-\frac{1}{2})^{m+2} + 5(-\frac{1}{2})^{m+3}) + \dots$
 \rightarrow 공비 $-\frac{1}{4}$
 $= 5(-\frac{1}{2})^{m+1}$

$\therefore \frac{5(-\frac{1}{2})^{m+1}}{1+\frac{1}{4}} > \frac{1}{700} \Rightarrow (-\frac{1}{2})^{m+1} > \frac{1}{2800}$
 $m = 1, 3, 5, 7, 9$
 $1+3+5+7+9 = 25$

30. 두 상수 $a(1 \leq a \leq 2), b$ 에 대하여 함수

$f(x) = \sin(ax + b + \sin x)$ 가 다음 조건을 만족시킨다.

- (가) $f(0) = 0, f(2\pi) = 2\pi a + b$
- (나) $f'(0) = f'(t)$ 인 양수 t 의 최솟값은 4π 이다.

함수 $f(x)$ 가 $x = \alpha$ 에서 극대인 α 의 값 중 열린구간 $(0, 4\pi)$ 에 속하는 모든 값의 집합을 A 라 하자. 집합 A 의 원소의 개수를 n , 집합 A 의 원소 중 가장 작은 값을 α_1 이라 하면,

$n\alpha_1 - ab = \frac{q}{p}\pi$ 이다. $p+q$ 의 값을 구하시오.

(단, p 와 q 는 서로소인 자연수이다.) [4점]

17

$f(0) = \sin b = 0$
 $f(2\pi) = \sin(2\pi a + b) = 2\pi a + b$
 $\therefore 2\pi a + b = 0, b = -2\pi a$
 $\sin(-2\pi a) = 0 \Rightarrow a = 1, \frac{3}{2}, 2$

$f'(x) = (a + \cos x) \cos(ax + b + \sin x)$
 $f'(0) = (a+1)\cos b, f'(t) = (a + \cos t) \cos(at + b + \sin t)$
 $f'(4\pi) = (a+1)\cos(4\pi a + b) \quad f'(0) = f'(t) \quad t \text{ 최소: } 4\pi$
 $a=1 \rightarrow f'(0) = 2\cos b, f'(t) = (1 + \cos t) \cos(t + b + \sin t)$
 $t=2\pi \rightarrow f'(0) = f'(t) \quad (x)$
 $a=2 \rightarrow f'(0) = 3\cos b, f'(t) = (2 + \cos t) \cos(2t + b + \sin t)$
 $t=2\pi \rightarrow f'(0) = f'(t) \quad (x)$
 $\therefore a = \frac{3}{2}, b = -3\pi$

$f'(x) = (\frac{3}{2} + \cos x) \cos(\frac{3}{2}x - 3\pi + \sin x)$ $\frac{3}{2} + \cos x > 0$
 $x=0 \rightarrow -3\pi$ $\therefore \frac{3}{2}x - 3\pi + \sin x = \frac{3}{2}\pi$
 $x=4\pi \rightarrow 3\pi$
 $0 < x < 4\pi$ $n=3$
 $-3\pi < A < 3\pi$ $A = -\frac{3}{2}\pi \rightarrow \frac{3}{2}x + \sin x = \frac{3}{2}\pi$
 $x = \pi = \alpha_1$
 $\therefore n\alpha_1 - ab = 3\pi + \frac{9}{2}\pi = \frac{15}{2}\pi$

- * 확인 사항
- 답안지의 해당란에 필요한 내용을 정확히 기입(표기)했는지 확인하시오.
- 이어서, 「선택과목(기하)」 문제가 제시되오니, 자신이 선택한 과목인지 확인하시오.

제 2 교시

수학 영역(기하)

출수형

5지선다형

23. 두 벡터 $\vec{a} = (k, 3)$, $\vec{b} = (1, 2)$ 에 대하여 $\vec{a} + 3\vec{b} = (6, 9)$ 일 때, k 의 값은? [2점]

- ① 1
- ② 2
- ③ 3
- ④ 4
- ⑤ 5

$k+3=6$

24. 꼭짓점의 좌표가 $(1, 0)$ 이고, 준선이 $x = -1$ 인 포물선이 점 $(3, a)$ 를 지날 때, 양수 a 의 값은? [3점]

- ① 1
- ② 2
- ③ 3
- ④ 4
- ⑤ 5

$p=2, y^2=8(x-1)$

$(3,a) \rightarrow a^2=16, a=4$

25. 좌표공간의 두 점 $A(a, b, 6)$, $B(-4, -2, c)$ 에 대하여 선분 AB를 3:2로 내분하는 점이 z 축 위에 있고, 선분 AB를 3:2로 외분하는 점이 xy 평면 위에 있을 때, $a+b+c$ 의 값은? [3점]

- ① 11 ② 12 ③ 13 ④ 14 ⑤ 15

$$\left(\frac{-4+2a}{5}, \frac{-2+2b}{5}, \right)$$

" "

0 0

$a=b, b=3$

$$\left(\quad, \quad, \frac{3c-12}{3-2} \right)$$

" "

0

$c=4$

$a+b+c=13$

26. 자연수 $n(n \geq 2)$ 에 대하여 직선 $x = \frac{1}{n}$ 이 두 타원

$$C_1 : \frac{x^2}{2} + y^2 = 1, \quad C_2 : 2x^2 + \frac{y^2}{2} = 1$$

과 만나는 제1사분면 위의 점을 각각 P, Q라 하자. 타원 C_1 위의 점 P에서의 접선의 x 절편을 α , 타원 C_2 위의 점 Q에서의 접선의 x 절편을 β 라 할 때, $6 \leq \alpha - \beta \leq 15$ 가 되도록 하는 모든 n 의 개수는? [3점]

- ① 7 ② 9 ③ 11 ④ 13 ⑤ 15

$$\frac{x_1 y_1}{2} + y_1 y = 1 \quad \left| \quad 2x_1 y_1 + \frac{y_1 y}{2} = 1 \right.$$

$$x = \frac{2}{y_1} = \frac{2n}{\quad} \quad \left| \quad x = \frac{1}{2y_1} = \frac{n}{\quad} \right.$$

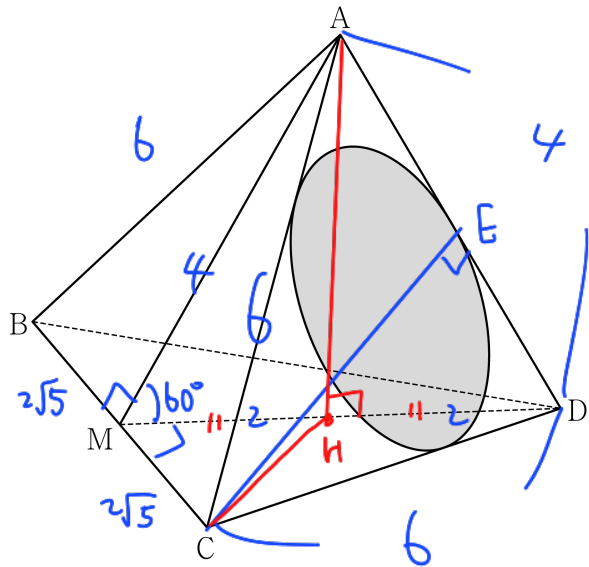
" "

α β

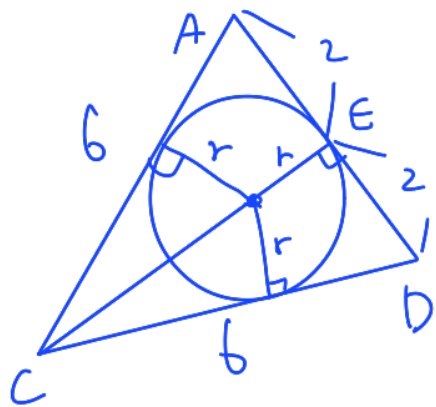
$6 \leq \frac{3}{2}n \leq 15, \quad 4 \leq n \leq 10$

7개

27. 그림과 같이 $\overline{AB} = 6$, $\overline{BC} = 4\sqrt{5}$ 인 사면체 ABCD 에 대하여 선분 BC의 중점을 M이라 하자. 삼각형 AMD가 정삼각형이고 직선 BC는 평면 AMD와 수직일 때, 삼각형 ACD에 내접하는 원의 평면 BCD 위로의 정사영의 넓이는? [3점]



- ① $\frac{\sqrt{10}}{4}\pi$ ② $\frac{\sqrt{10}}{6}\pi$ ③ $\frac{\sqrt{10}}{8}\pi$
- ④ $\frac{\sqrt{10}}{10}\pi$ ⑤ $\frac{\sqrt{10}}{12}\pi$



$CE = 4\sqrt{2}$
 $\frac{1}{2}r(6+6+4\sqrt{5}) = \frac{1}{2} \cdot 4 \cdot 4\sqrt{2}$
 $r = \sqrt{2}$

$\overline{AH} = \frac{\sqrt{3}}{2} \cdot 4 = 2\sqrt{3}$

$\triangle ACD \sim \triangle HCD = \frac{1}{2} \triangle MCD$

$2\sqrt{2} \cos \theta = 2\sqrt{5}$

$\cos \theta = \frac{\sqrt{5}}{4\sqrt{2}} = \frac{\sqrt{10}}{8}$

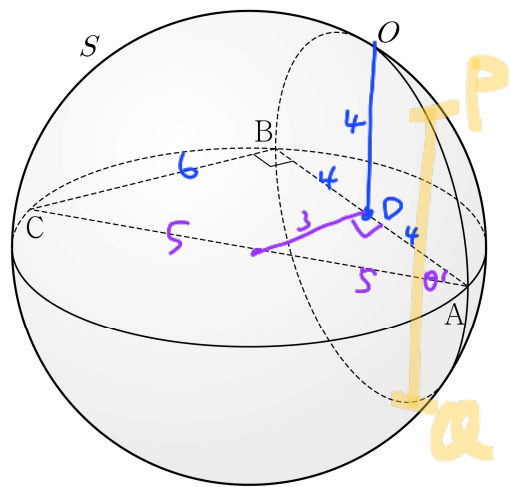
$\therefore S_{\cos \theta} = 2\pi \times \frac{\sqrt{10}}{8} = \frac{\sqrt{10}}{4}\pi$

28. 좌표공간에 $\overline{AB} = 8$, $\overline{BC} = 6$, $\angle ABC = \frac{\pi}{2}$ 인 직각삼각형

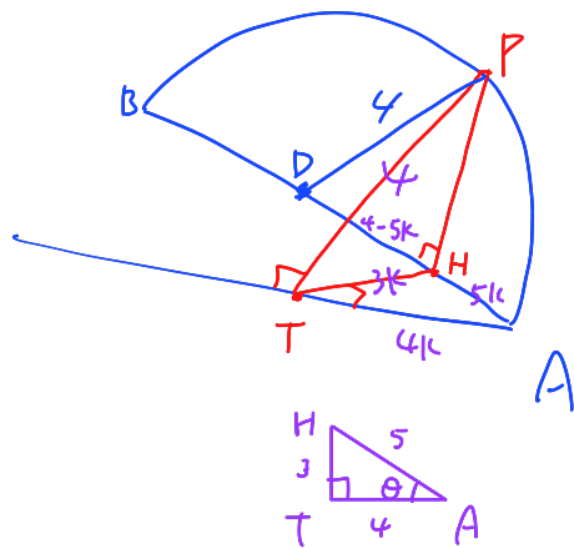
ABC와 선분 AC를 지름으로 하는 구 S가 있다. 직선 AB를 포함하고 평면 ABC에 수직인 평면이 구 S와 만나서 생기는 원을 O라 하자. 원 O 위의 점 중에서 직선 AC까지의 거리가 4인 서로 다른 두 점을 P, Q라 할 때, 선분 PQ의 길이는?

[4점]

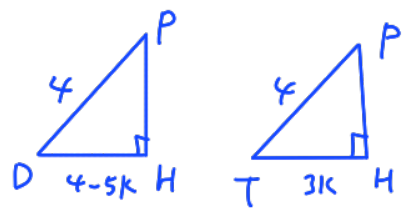
- ① $\sqrt{43}$ ② $\sqrt{47}$ ③ $\sqrt{51}$ ④ $\sqrt{55}$ ⑤ $\sqrt{59}$



$\sin \theta = \frac{3}{5}$
 $\cos \theta = \frac{4}{5}$



$\overline{AC} \perp \overline{TP}$
 $\overline{AC} \perp \overline{PH}$) $\overline{AC} \perp \triangle PTH$
 $\rightarrow \overline{AC} \perp \overline{TH}$



$16 - (4-5k)^2 = 16 - (3k)^2$

$\therefore 4-5k = 3k$

$k = \frac{1}{2}$

$\overline{PH} = \sqrt{16 - \frac{9}{4}} = \frac{\sqrt{55}}{2}$

$\overline{PQ} = 2\overline{PH} = \sqrt{55}$

단답형

29. 두 초점이 $F(c, 0), F'(-c, 0)$ ($c > 0$)인 쌍곡선 $x^2 - \frac{y^2}{35} = 1$ 이 있다. 이 쌍곡선 위에 있는 제1사분면 위의 점 P 에 대하여 직선 PF' 위에 $\overline{PQ} = \overline{PF}$ 인 점 Q 를 잡자. 삼각형 $QF'F$ 와 삼각형 $FF'P$ 가 서로 닮음일 때, 삼각형 PFQ 의 넓이는 $\frac{q}{p}\sqrt{5}$ 이다. $p+q$ 의 값을 구하시오. (단, $\overline{PF'} < \overline{QF'}$ 이고, p 와 q 는 서로소인 자연수이다.) [4점]

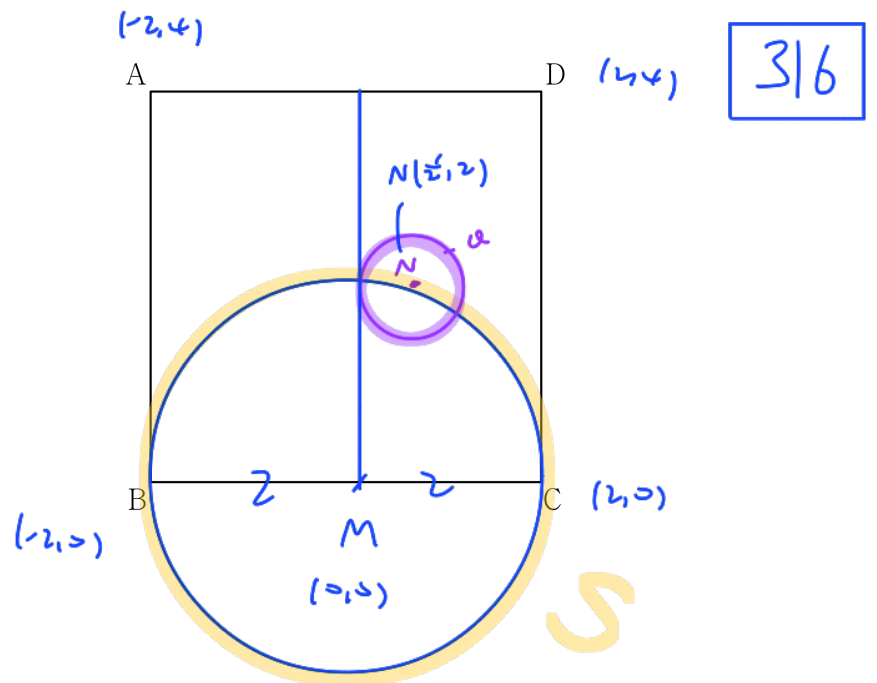
30. 좌표평면에 한 변의 길이가 4인 정사각형 ABCD가 있다.

$|\overline{XB} + \overline{XC}| = |\overline{XB} - \overline{XC}|$ $2|\overline{XM}| = |\overline{CB}| = 4, |\overline{XM}| = 2$

를 만족시키는 점 X 가 나타내는 도형을 S 라 하자. 도형 S 위의 점 P 에 대하여

$4\overline{PQ} = \overline{PB} + 2\overline{PD}$

를 만족시키는 점을 Q 라 할 때, $\overline{AC} \cdot \overline{AQ}$ 의 최댓값과 최솟값을 각각 M, m 이라 하자. $M \times m$ 의 값을 구하시오. [4점]



$4|\overline{MQ} - \overline{MP}| = \overline{MB} - \overline{MP} + 2\overline{MD} - 2\overline{MP}$
 $4\overline{MQ} = \overline{MP} + \overline{MB} + 2\overline{MD}$
 $\overline{MQ} = \frac{1}{4}\overline{MP} + \frac{1}{4}\overline{MB} + \frac{1}{2}\overline{MD}$ $\frac{1}{4}(-2,0) + \frac{1}{2}(2,-4)$
 $= (\frac{1}{2}, -2)$

Q : 중심 $(\frac{1}{2}, 2)$ 반지름 $\frac{1}{2}$

$\overline{AC} \cdot \overline{AQ} = \overline{AC} \cdot (\overline{AN} + \overline{NQ})$
 $= \overline{AC} \cdot \overline{AN} + \overline{AC} \cdot \overline{NQ}$
 $= (4,-4) \cdot (\frac{5}{2}, -2) + |\overline{AC}| |\overline{NQ}| \cos \theta$
 $= 18 + 2\sqrt{2} \cos \theta$
 $M = 18 + 2\sqrt{2}$
 $m = 18 - 2\sqrt{2}$
 $M \times m = 324 - 8 = 316$

* 확인 사항
 ○ 답안지의 해당란에 필요한 내용을 정확히 기입(표기)했는지 확인 하시오.