



기출 미니 모의고사 수학1

수학문만중수

수학 영역

홀수형

성명

수험 번호

- 문제지의 해당란에 성명과 수험 번호를 정확히 쓰시오.
- 답안지의 필적 확인란에 다음의 문구를 정자로 기재하십시오.

MAX - Lights Down Low

- 답안지의 해당란에 성명과 수험 번호를 쓰고, 또 수험 번호, 문형(홀수/짝수), 답을 정확히 표시하십시오.
- 단답형 답의 숫자에 '0'이 포함되면 그 '0'도 답란에 반드시 표시하십시오.
- 문항에 따라 배점이 다르니, 각 물음의 끝에 표시된 배점을 참고하십시오. 배점은 2점, 3점 또는 4점입니다.
- 계산은 문제지의 여백을 활용하십시오.

※ 공통과목 및 자신이 선택한 과목의 문제지를 확인하고, 답을 정확히 표시하십시오.

- 수학1 지수 로그 함수 1~5쪽

※ 시험이 시작되기 전까지 표지를 넘기지 마시오.

수학 영역

수학1 1회

1. 1이 아닌 세 양수 a, b, c 와 1이 아닌 두 자연수 m, n 이 다음 조건을 만족시킨다. 모든 순서쌍 (m, n) 의 개수는? [200418]

- (가) $\sqrt[m]{a}$ 는 b 의 m 제곱근이다.
- (나) $\sqrt[n]{b}$ 는 c 의 n 제곱근이다.
- (다) c 는 a^{12} 의 n 제곱근이다.

- ① 4 ② 7 ③ 10 ④ 13 ⑤ 16

2. 함수 $f(x) = -(x-2)^2 + k$ 에 대하여 다음 조건을 만족시키는 자연수 n 의 개수가 2일 때, 상수 k 의 값은? [230911]

$\sqrt{3}^{f(n)}$ 의 네제곱근 중 실수인 것을 모두 곱한 값이 -9 이다.

- ① 8 ② 9 ③ 10 ④ 11 ⑤ 12

3. 2 이상의 자연수 n 에 대하여 x 에 대한 방정식

$$(x^n - 8)(x^{2n} - 8) = 0$$

의 모든 실근의 곱이 -4 일 때, n 의 값은? [230709]

- ① 2 ② 3 ③ 4 ④ 5 ⑤ 6

4. 다음 조건을 만족시키는 최고차항의 계수가 1인 이차함수 $f(x)$ 가 존재하도록 하는 모든 자연수 n 의 값의 합을 구하시오. [220621]

- (가) x 에 대한 방정식 $(x^n - 64)f(x) = 0$ 은 서로 다른 두 실근을 갖고, 각각의 실근은 증근이다.
 (나) 함수 $f(x)$ 의 최솟값은 음의 정수이다.

5. 2 이상의 세 실수 a, b, c 가 다음 조건을 만족시킨다.

- (가) $\sqrt[3]{a}$ 는 ab 의 네제곱근이다.
- (나) $\log_a bc + \log_b ac = 4$

$a = \left(\frac{b}{c}\right)^k$ 이 되도록 하는 실수 k 의 값은? [180419]

- ① 6
- ② $\frac{13}{2}$
- ③ 7
- ④ $\frac{15}{2}$
- ⑤ 8

6. 두 상수 $a, b (1 < a < b)$ 에 대하여 좌표평면 위의 두 점

$(a, \log_2 a), (b, \log_2 b)$ 를 지나는 직선의 y 절편과 두 점 $(a, \log_4 a), (b, \log_4 b)$ 를 지나는 직선의 y 절편이 같다. 함수

$f(x) = a^{bx} + b^{ax}$ 에 대하여 $f(1) = 40$ 일 때, $f(2)$ 의 값은? [221113]

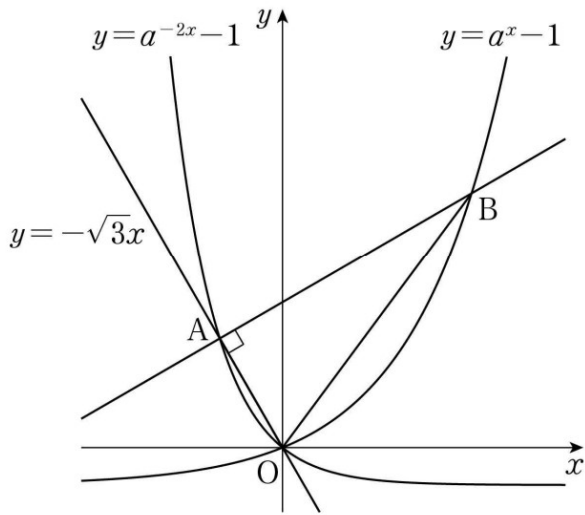
- ① 760
- ② 800
- ③ 840
- ④ 880
- ⑤ 920

7. 그림과 같이 $a > 1$ 인 실수 a 에 대하여 두 곡선

$$y = a^{-2x} - 1, \quad y = a^x - 1$$

이 있다. 곡선 $y = a^{-2x} - 1$ 과 직선 $y = -\sqrt{3}x$ 가 서로 다른 두 점 O, A 에서 만난다. 점 A 를 지나고 직선 OA 에 수직인 직선이 곡선 $y = a^x - 1$ 과 제 1사분면에서 만나는 점을 B 라 하자.

$\overline{OA} : \overline{OB} = \sqrt{3} : \sqrt{19}$ 일 때, 선분 AB 의 길이를 구하시오. (단, O 는 원점이다.) [221021]

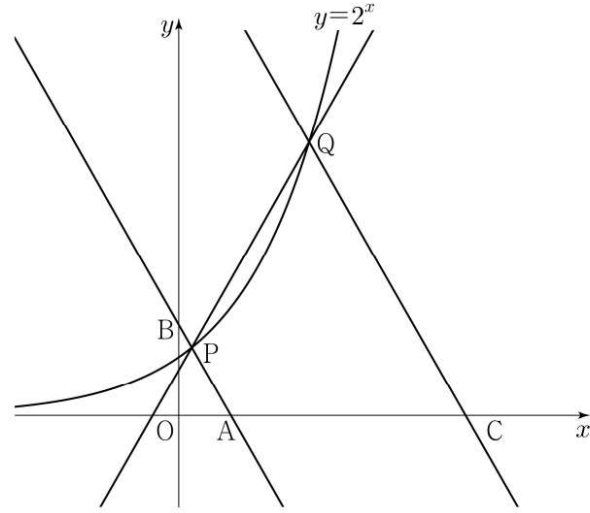


8. 그림과 같이 곡선 $y = 2^x$ 위에 두 점 $P(a, 2^a), Q(b, 2^b)$ 이 있다.

직선 PQ 의 기울기를 m 이라 할 때, 점 P 를 지나며 기울기가 $-m$ 인 직선이 x 축, y 축과 만나는 점을 각각 A, B 라 하고, 점 Q 를 지나며 기울기가 $-m$ 인 직선이 x 축과 만나는 점을 C 라 하자.

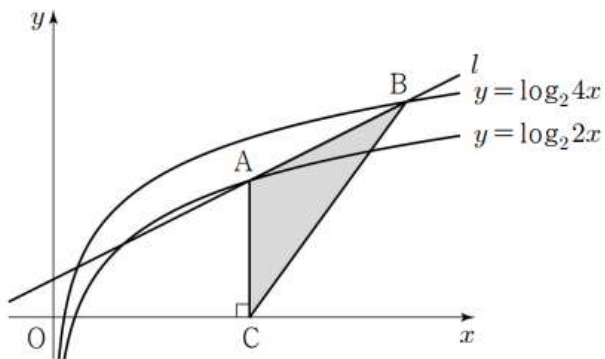
$$\overline{AB} = 4\overline{PB}, \quad \overline{CQ} = 3\overline{AB}$$

일 때, $90 \times (a+b)$ 의 값을 구하시오. (단, $0 < a < b$) [230921]



9. 기울기가 $\frac{1}{2}$ 인 직선 l 이 곡선 $y = \log_2 2x$ 와 서로 다른 두 점에서 만날 때, 만나는 두 점 중 x 좌표가 큰 점을 A라 하고, 직선 l 이 곡선 $y = \log_2 4x$ 와 만나는 두 점 중 x 좌표가 큰 점을 B라 하자. $\overline{AB} = 2\sqrt{5}$ 일 때, 점 A에서 x 축에 내린 수선의 발 C에 대하여 삼각형 ACB의 넓이는? [220711]

- ① 5 ② $\frac{21}{4}$ ③ $\frac{11}{2}$ ④ $\frac{23}{4}$ ⑤ 6



10. 실수 t 에 대하여 두 곡선 $y = t - \log_2 x$ 와 $y = 2^{x-t}$ 이 만나는 점의 x 좌표를 $f(t)$ 라 하자. <보기>의 각 명제에 대하여 다음 규칙에 따라 A, B, C의 값을 정할 때, $A+B+C$ 의 값을 구하시오. (단, $A+B+C \neq 0$) [240621]

- 명제 ㄱ이 참이면 $A = 100$, 거짓이면 $A = 0$ 이다.
- 명제 ㄴ이 참이면 $B = 10$, 거짓이면 $B = 0$ 이다.
- 명제 ㄷ이 참이면 $C = 1$, 거짓이면 $C = 0$ 이다.

- <보 기>
- ㄱ. $f(1) = 1$ 이고 $f(2) = 2$ 이다.
 - ㄴ. 실수 t 의 값이 증가하면 $f(t)$ 의 값도 증가한다.
 - ㄷ. 모든 양의 실수 t 에 대하여 $f(t) \geq t$ 이다.

수학 영역

홀수형

성명

수험 번호

- 문제지의 해당란에 성명과 수험 번호를 정확히 쓰시오.
- 답안지의 필적 확인란에 다음의 문구를 정자로 기재하시오.

Fly By Midnight - Tragedy

- 답안지의 해당란에 성명과 수험 번호를 쓰고, 또 수험 번호, 문형(홀수/짝수), 답을 정확히 표시하시오.
- 단답형 답의 숫자에 '0'이 포함되면 그 '0'도 답란에 반드시 표시하시오.
- 문항에 따라 배점이 다르니, 각 물음의 끝에 표시된 배점을 참고하시오. 배점은 2점, 3점 또는 4점입니다.
- 계산은 문제지의 여백을 활용하시오.

※ 공통과목 및 자신이 선택한 과목의 문제지를 확인하고, 답을 정확히 표시하시오.

- 수학1 삼각함수 1~5쪽

※ 시험이 시작되기 전까지 표지를 넘기지 마시오.

수학1 2회

1. 좌표평면에서 제1사분면에 점 P가 있다. 점 P를 직선 $y=x$ 에 대하여 대칭이동한 점을 Q라 하고, 점 Q를 원점에 대하여 대칭이동한 점을 R라 할 때, 세 동경 OP, OQ, OR가 나타내는 각을 α, β, γ 라 하자. $\sin\alpha = \frac{1}{3}$ 일 때, $9(\sin^2\beta + \tan^2\gamma)$ 의 값을 구하시오. (단, O는 원점이고, 시초선은 x 축의 양의 방향이다.)
[200326]

2. 두 함수

$$f(x) = x^2 + ax + b, g(x) = \sin x$$

가 다음 조건을 만족시킬 때, $f(2)$ 의 값은?
(단, a, b 는 상수이고, $0 \leq a \leq 2$ 이다.) [230313]

(가) $\{g(a\pi)\}^2 = 1$
(나) $0 \leq x \leq 2\pi$ 일 때, 방정식 $f(g(x)) = 0$ 의 모든 해의 합은 $\frac{5}{2}\pi$ 이다.

- ① 3 ② $\frac{7}{2}$ ③ 4 ④ $\frac{9}{2}$ ⑤ 5

3. 닫힌구간 $[0, 12]$ 에서 정의된 두 함수

$$f(x) = \cos \frac{\pi x}{6}, \quad g(x) = -3 \cos \frac{\pi x}{6} - 1$$

이 있다. 곡선 $y=f(x)$ 와 직선 $y=k$ 가 만나는 두 점의 x 좌표를 α_1, α_2 라 할 때, $|\alpha_1 - \alpha_2| = 8$ 이다. 곡선 $y=g(x)$ 와 직선 $y=k$ 가 만나는 두 점의 x 좌표를 β_1, β_2 라 할 때, $|\beta_1 - \beta_2|$ 의 값은? (단, k 는 $-1 < k < 1$ 인 상수이다.) [230909]

- ① 3 ② $\frac{7}{2}$ ③ 4 ④ $\frac{9}{2}$ ⑤ 5

4. 두 자연수 a, b 에 대하여 함수

$$f(x) = a \sin bx + 8 - a$$

가 다음 조건을 만족시킬 때, $a+b$ 의 값을 구하시오. [240619]

- (가) 모든 실수 x 에 대하여 $f(x) \geq 0$ 이다.
 (나) $0 \leq x \leq 2\pi$ 일 때, x 에 대한 방정식 $f(x) = 0$ 의 서로 다른 실근의 개수는 4이다.

5. $0 \leq t \leq 3$ 인 실수 t 와 상수 k 에 대하여 $t \leq x \leq t+1$ 에서
방정식 $\sin \frac{\pi x}{2} = k$ 의 모든 해의 개수를 $f(t)$ 라 하자. 함수 $f(t)$ 가

$$f(t) = \begin{cases} 1 & (0 \leq t < a \text{ 또는 } a < x \leq b) \\ 2 & (t = a) \\ 0 & (b < t \leq 3) \end{cases}$$

일 때, $a^2 + b^2 + k^2$ 의 값은?

(단, a, b 는 $0 < a < b < 3$ 인 상수이다.) [19고21116]

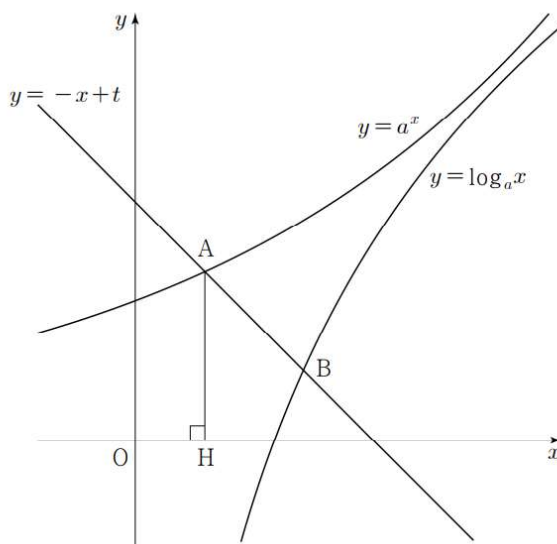
- ① 2 ② $\frac{5}{2}$ ③ 3 ④ $\frac{7}{2}$ ⑤ 4

6. 그림과 같이 1보다 큰 두 실수 a, t 에 대하여 직선 $y = -x + t$ 가
두 곡선 $y = a^x, y = \log_a x$ 와 만나는 점을 각각 A, B라 하자. 점
A에서 x 축에 내린 수선의 발을 H라 할 때, 세 점 A, B, H는
다음 조건을 만족시킨다.

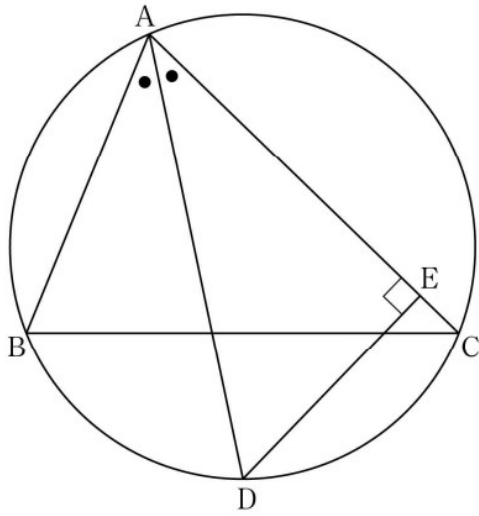
(가) $\overline{OH} : \overline{AB} = 1 : 2$

(나) 삼각형 AOB의 외접원의 반지름의 길이는 $\frac{\sqrt{2}}{2}$ 이다.

$200(t-a)$ 의 값을 구하시오. (단, O는 원점이다.) [20고20929]

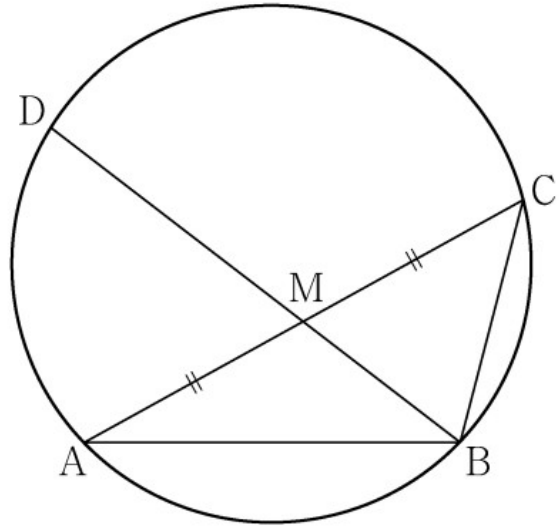


7. $\overline{AB}=6$, $\overline{AC}=8$ 인 예각삼각형 ABC에서 $\angle A$ 의 이등분선과 삼각형 ABC의 외접원이 만나는 점을 D, 점 D에서 선분 AC에 내린 수선의 발을 E라 하자. 선분 AE의 길이를 k 라 할 때, $12k$ 의 값을 구하시오. [211021]



8. 그림과 같이 $\overline{AB}=3$, $\overline{BC}=2$, $\overline{AC}>3$ 이고

$\cos(\angle BAC) = \frac{7}{8}$ 인 삼각형 ABC가 있다. 선분 AC의 중점을 M, 삼각형 ABC의 외접원이 직선 BM과 만나는 점 중 B가 아닌 점을 D라 할 때, 선분 MD의 길이는? [230610]

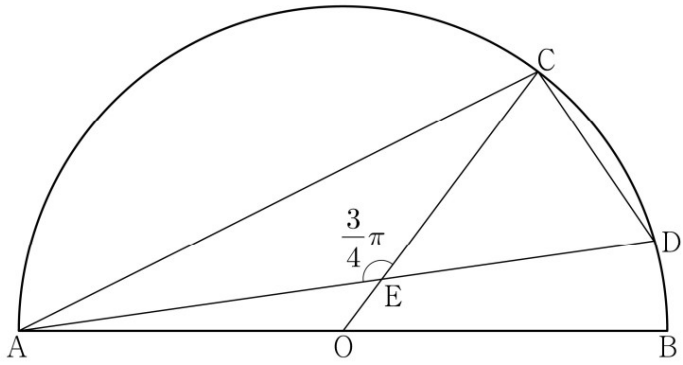


- ① $\frac{3\sqrt{10}}{5}$ ② $\frac{7\sqrt{10}}{10}$ ③ $\frac{4\sqrt{10}}{5}$
- ④ $\frac{9\sqrt{10}}{10}$ ⑤ $\sqrt{10}$

9. 그림과 같이 선분 AB를 지름으로 하는 반원의 호 AB 위에 두 점 C, D가 있다. 선분 AB의 중점 O에 대하여 두 선분 AD, CO가 점 E에서 만나고,

$$\overline{CE}=4, \overline{ED}=3\sqrt{2}, \angle CEA=\frac{3}{4}\pi$$

이다. $\overline{AC} \times \overline{CD}$ 의 값은? [230913]

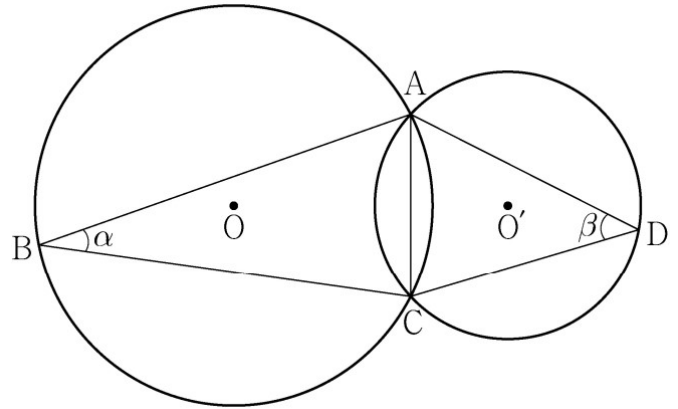


- ① $6\sqrt{10}$ ② $10\sqrt{5}$ ③ $16\sqrt{2}$ ④ $12\sqrt{5}$ ⑤ $20\sqrt{2}$

10. 그림과 같이 한 평면 위에 있는 두 삼각형 ABC, ACD의 외심을 각각 O, O'이라 하고 $\angle ABC = \alpha$, $\angle ADC = \beta$ 라 할 때,

$$\frac{\sin \beta}{\sin \alpha} = \frac{3}{2}, \cos(\alpha + \beta) = \frac{1}{3}, \overline{OO'} = 1$$

이 성립한다. 삼각형 ABC의 외접원의 넓이가 $\frac{q}{p}\pi$ 일 때, $p+q$ 의 값을 구하시오. (단, p 와 q 는 서로소인 자연수이다.) [22예비21]



수학 영역

홀수형

성명

수험 번호

- 문제지의 해당란에 성명과 수험 번호를 정확히 쓰시오.
- 답안지의 필적 확인란에 다음의 문구를 정자로 기재하십시오.

Tom Frane - Stray Nights

- 답안지의 해당란에 성명과 수험 번호를 쓰고, 또 수험 번호, 문형(홀수/짝수), 답을 정확히 표시하십시오.
- 단답형 답의 숫자에 '0'이 포함되면 그 '0'도 답란에 반드시 표시하십시오.
- 문항에 따라 배점이 다르니, 각 물음의 끝에 표시된 배점을 참고하십시오. 배점은 2점, 3점 또는 4점입니다.
- 계산은 문제지의 여백을 활용하십시오.

※ 공통과목 및 자신이 선택한 과목의 문제지를 확인하고, 답을 정확히 표시하십시오.

- 수학1 수열1 1~5쪽

※ 시험이 시작되기 전까지 표지를 넘기지 마시오.

수학1 3회

1. 등차수열 $\{a_n\}$ 이 다음 조건을 만족시킨다.

- (가) $a_6 + a_7 = -\frac{1}{2}$
- (나) $a_l + a_m = 1$ 이 되도록 하는 두 자연수 $l, m (l < m)$ 의 모든 순서쌍 (l, m) 의 개수는 6이다.

등차수열 $\{a_n\}$ 의 첫째항부터 제14항까지의 합을 S 라 할 때, $2S$ 의 값을 구하시오. [23사관21]

2. $a_2 = -4$ 이고 공차가 0이 아닌 등차수열 $\{a_n\}$ 에 대하여 수열 $\{b_n\}$ 을 $b_n = a_n + a_{n+1} (n \geq 1)$ 이라 하고, 두 집합 A, B 를

$$A = \{a_1, a_2, a_3, a_4, a_5\}, B = \{b_1, b_2, b_3, b_4, b_5\}$$

라 하자. $n(A \cap B) = 3$ 이 되도록 하는 모든 수열 $\{a_n\}$ 에 대하여 a_{20} 의 값의 합은? [240612]

- ① 30 ② 34 ③ 38 ④ 42 ⑤ 46

3. 첫째항이 양수인 등차수열 $\{a_n\}$ 의 첫째항부터 제 n 항까지의 합을 S_n 이라 하자.

$$|S_3| = |S_6| = |S_{11}| - 3$$

을 만족시키는 모든 수열 $\{a_n\}$ 의 첫째항의 합은? [220313]

- ① $\frac{31}{5}$ ② $\frac{33}{5}$ ③ 7 ④ $\frac{37}{5}$ ⑤ $\frac{39}{5}$

4. 등차수열 $\{a_n\}$ 이 다음 조건을 만족시킨다.

(가) $a_1 + a_2 + a_3 = 159$

(나) $a_{m-2} + a_{m-1} + a_m = 96$ 인 자연수 m 에 대하여

$$\sum_{k=1}^m a_k = 425 \quad (\text{단, } m > 3)$$

a_{11} 의 값을 구하시오. [180428]

5. 첫째항이 자연수이고 공차가 음수인 등차수열 $\{a_n\}$ 이 다음 조건을 만족시킬 때, a_1 의 값을 구하시오. [19고21128]

$$\begin{aligned} \text{(가)} & \quad |a_5| + |a_6| = |a_5 + a_6| + 2 \\ \text{(나)} & \quad \sum_{n=1}^6 |a_n| = 37 \end{aligned}$$

6. 공차가 3인 등차수열 $\{a_n\}$ 이 다음 조건을 만족시킬 때, a_{10} 의 값은? [230612]

$$\begin{aligned} \text{(가)} & \quad a_5 \times a_7 < 0 \\ \text{(나)} & \quad \sum_{k=1}^6 |a_{k+6}| = 6 + \sum_{k=1}^6 |a_{2k}| \end{aligned}$$

- ① $\frac{21}{2}$ ② 11 ③ $\frac{23}{2}$ ④ 12 ⑤ $\frac{25}{2}$

7. 모든 항이 정수이고 공차가 5인 등차수열 $\{a_n\}$ 과 자연수 m 이 다음 조건을 만족시킨다. [230712]

$$(가) \sum_{k=1}^{2m+1} a_k < 0$$

$$(나) |a_m| + |a_{m+1}| + |a_{m+2}| < 13$$

$24 < a_{21} < 29$ 일 때, m 의 값은?

- ① 10 ② 12 ③ 14 ④ 16 ⑤ 18

8. 수열 $\{a_n\}$ 이 모든 자연수 n 에 대하여

$$\sum_{k=1}^n \frac{1}{(2k-1)a_k} = n^2 + 2n$$

을 만족시킬 때, $\sum_{n=1}^{10} a_n$ 의 값은? [240609]

- ① $\frac{10}{21}$ ② $\frac{4}{7}$ ③ $\frac{2}{3}$ ④ $\frac{16}{21}$ ⑤ $\frac{6}{7}$

9. 첫째항이 4이고 공차가 1인 등차수열 $\{a_n\}$ 에 대하여

$\sum_{k=1}^{12} \frac{1}{\sqrt{a_{k+1}} + \sqrt{a_k}}$ 의 값은? [170914]

- ① 1 ② 2 ③ 3 ④ 4 ⑤ 5

10. 첫째항이 -45 이고 공차가 d 인 등차수열 $\{a_n\}$ 이 다음 조건을 만족시키도록 하는 모든 자연수 d 의 값의 합은? [220913]

(가) $|a_m| = |a_{m+3}|$ 인 자연수 m 이 존재한다.
(나) 모든 자연수 n 에 대하여 $\sum_{k=1}^n a_k > -100$

- ① 44 ② 48 ③ 52 ④ 56 ⑤ 60

수학 영역

홀수형

성명

수험 번호

- 문제지의 해당란에 성명과 수험 번호를 정확히 쓰시오.
- 답안지의 필적 확인란에 다음의 문구를 정자로 기재하십시오.

Bunt - say you're with me

- 답안지의 해당란에 성명과 수험 번호를 쓰고, 또 수험 번호, 문형(홀수/짝수), 답을 정확히 표시하십시오.
- 단답형 답의 숫자에 '0'이 포함되면 그 '0'도 답란에 반드시 표시하십시오.
- 문항에 따라 배점이 다르니, 각 물음의 끝에 표시된 배점을 참고하십시오. 배점은 2점, 3점 또는 4점입니다.
- 계산은 문제지의 여백을 활용하십시오.

※ 공통과목 및 자신이 선택한 과목의 문제지를 확인하고, 답을 정확히 표시하십시오.

- 수학1 수열2 1~5쪽

※ 시험이 시작되기 전까지 표지를 넘기지 마시오.

수학1 4회

1. 수열 $\{a_n\}$ 이 다음 조건을 만족시킨다.

(가) 모든 자연수 k 에 대하여 $a_{4k} = r^k$ 이다.
 (단, r 은 $0 < |r| < 1$ 인 상수이다.)
 (나) $a_1 < 0$ 이고, 모든 자연수 n 에 대하여

$$a_{n+1} = \begin{cases} a_n + 3 & (|a_n| < 5) \\ -\frac{1}{2}a_n & (|a_n| \geq 5) \end{cases} \text{이다.}$$

$|a_m| \geq 5$ 를 만족시키는 100 이하의 자연수 m 의 개수를 p 라 할 때, $p+a_1$ 의 값은? [230915]

- ① 8 ② 10 ③ 12 ④ 14 ⑤ 16

2. 모든 항이 자연수인 수열 $\{a_n\}$ 이 모든 자연수 n 에 대하여

$$a_{n+2} = \begin{cases} a_{n+1} + a_n & (a_{n+1} + a_n \text{이 홀수인 경우}) \\ \frac{1}{2}(a_{n+1} + a_n) & (a_{n+1} + a_n \text{이 짝수인 경우}) \end{cases}$$

를 만족시킨다. $a_1 = 1$ 일 때, $a_6 = 34$ 가 되도록 하는 모든 a_2 의 값의 합은? [230315]

- ① 60 ② 64 ③ 68 ④ 72 ⑤ 76

3. 수열 $\{a_n\}$ 은 $1 < a_1 < 2$ 이고, 모든 자연수 n 에 대하여

$$a_{n+1} = \begin{cases} -2a_n & (a_n < 0) \\ a_n - 2 & (a_n \geq 0) \end{cases}$$

을 만족시킨다. $a_7 = -1$ 일 때, $40 \times a_1$ 의 값을 구하시오. [220320]

4. 수열 $\{a_n\}$ 이 다음 조건을 만족시킨다.

(가) $|a_1| = 2$

(나) 모든 자연수 n 에 대하여 $|a_{n+1}| = 2|a_n|$ 이다.

(다) $\sum_{n=1}^{10} a_n = -14$

$a_1 + a_3 + a_5 + a_7 + a_9$ 의 값을 구하시오. [221121]

5. 공차가 0이 아닌 등차수열 $\{a_n\}$ 이 있다. 수열 $\{b_n\}$

$$b_1 = a_1$$

이고, 2 이상의 자연수 n 에 대하여

$$b_n = \begin{cases} b_{n-1} + a_n & (n \text{이 } 3 \text{의 배수가 아닌 경우}) \\ b_{n-1} - a_n & (n \text{이 } 3 \text{의 배수인 경우}) \end{cases}$$

이다. $b_{10} = a_{10}$ 일 때, $\frac{b_8}{b_{10}} = \frac{q}{p}$ 이다. $p+q$ 의 값을 구하시오. (단,

p 와 q 는 서로소인 자연수이다.) [180629]

6. 첫째항이 자연수인 수열 $\{a_n\}$ 이 모든 자연수 n 에 대하여

$$a_{n+1} = \begin{cases} a_n - 2 & (a_n \geq 0) \\ a_n + 5 & (a_n < 0) \end{cases}$$

을 만족시킨다. $a_{15} < 0$ 이 되도록 하는 a_1 의 최솟값을 구하시오.

[210421]

7. 자연수 k 에 대하여 다음 조건을 만족시키는 수열 $\{a_n\}$ 이 있다.

$$a_1 = k \text{이고, 모든 자연수 } n \text{에 대하여}$$

$$a_{n+1} = \begin{cases} a_n + 2n - k & (a_n \leq 0) \\ a_n - 2n - k & (a_n > 0) \end{cases}$$

이다.

$a_3 \times a_4 \times a_5 \times a_6 < 0$ 이 되도록 하는 모든 k 의 값의 합은?

[240615]

- ① 10 ② 14 ③ 18 ④ 22 ⑤ 26

8. 수열 $\{a_n\}$ 이 모든 자연수 n 에 대하여 다음 조건을 만족시킨다.

$$(가) \ a_{2n} = a_n - 1$$

$$(나) \ a_{2n+1} = 2a_n + 1$$

$a_{20} = 1$ 일 때, $\sum_{n=1}^{63} a_n$ 의 값은? [201121]

- ① 704 ② 712 ③ 720 ④ 728 ⑤ 736

9. 수열 $\{a_n\}$ 은 $0 < a_1 < 1$ 이고, 모든 자연수 n 에 대하여 다음 조건을 만족시킨다.

(가) $a_{2n} = a_2 \times a_n + 1$ (나) $a_{2n+1} = a_2 \times a_n - 2$

$a_7 = 2$ 일 때, a_{25} 의 값은? [201121]

- ① 78 ② 80 ③ 82 ④ 84 ⑤ 86

10. 모든 항이 자연수이고 다음 조건을 만족시키는 모든 수열 $\{a_n\}$ 에 대하여 a_9 의 최댓값과 최솟값을 각각 M, m 이라 할 때, $M+m$ 의 값은? [231115]

(가) $a_7 = 40$ (나) 모든 자연수 n 에 대하여 $a_{n+2} = \begin{cases} a_{n+1} + a_n & (a_{n+1} \text{이 } 3 \text{의 배수가 아닌 경우}) \\ \frac{1}{3}a_{n+1} & (a_{n+1} \text{이 } 3 \text{의 배수인 경우}) \end{cases}$ 이다.

- ① 216 ② 218 ③ 220 ④ 222 ⑤ 224