


제 4 교시

한국사 영역

1. (가) 시대의 사회 모습으로 적절한 것은?

○○ 모듬 문화유산 발표


**칼기시대**



이것은 (가) 시대의 문화유산인 고인돌입니다.

◎ 특징

- (가) 시대에 군장이 출현하였음을 보여 줌.
- 강화도 등 여러 지역에 분포함.
- 유네스코 세계 유산으로 등재됨.



- ① 과거제를 시행하였다.  X
- ② 팔관회를 거행하였다.  X
- ③ 비파형 동검을 제작하였다.  O
- ④ 불상과 석탑을 건립하였다.  X
- ⑤ 철제 농기구를 사용하였다.  X

2. (가) 단체에 대한 설명으로 옳은 것은? [3점]

역사 탐방 과제 안내

1. 활동 목표: (가) 단원들의 활동을 조사하여 그 역사적 의의를 이해할 수 있다.

2. 제출 일자: 2021년 3월 ○○일

3. 과제 내용

구분	내용
과제 1	- 김상옥의 동상 옆에서 사진 찍기 - 그의 의거를 보도한 신문 기사를 참고하여 활동을 정리하기
과제 2	- 나석주의 의거터 표지석 사진 찍기 - 그의 활동을 검색하여 활동지에 4컷 만화 그리기

**의열단**

- ① 형평 운동을 전개하였다.  X
- ② 신탁 통치 반대 시위를 벌였다.  X
- ③ 조선 혁명 선언을 활동 지침으로 삼았다.  O
- ④ 오산 학교, 대성 학교 등 교육 기관을 설립하였다.  X
- ⑤ 광주 학생 항일 운동 때 진상 조사단을 파견하였다.  X

3. 밑줄 친 '이 책'의 제목으로 가장 적절한 것은?

당과 대립하며 영토를 확장한 무왕에 대한 책도 있네.

○○의 전성기를 담은 이 책을 읽어 봐야지.

**발해**



- ① 성리학의 나라, 조선  X
- ② 불국사에 담긴 꿈, 신라  X
- ③ 백제 문화의 보고, 무령왕릉  X
- ④ 고려의 아름다움, 상감 청자  X
- ⑤ 해동성국으로 불린 나라, 발해  O

4. (가) 국가에 대한 설명으로 옳은 것은? [3점]

도병마사

중서문하성과 중추원에 소속된 고위 관리들이 함께 모여 국방 문제 등을 논의하던 (가)의 회의의 기구이다. 무신 정변 이후 기능이 축소되었다가 원 간섭기에 도평의사사로 개편되었다.

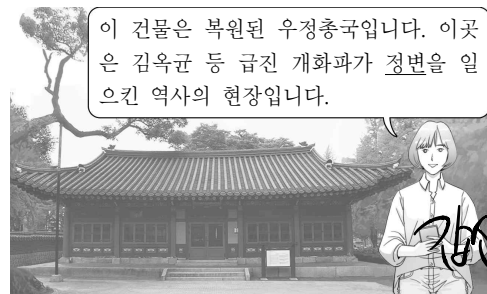
**고려**

- ① 8조법을 제정하였다.  X
- ② 통리기무아문을 설치하였다.  X
- ③ 22담로에 왕족을 파견하였다.  X
- ④ 교육 기관으로 국가감을 두었다.  O
- ⑤ 화백 회의에서 중대사를 논의하였다.  X

5. 밑줄 친 '정변' 중에 있었던 사실로 옳은 것은? [3점]

이 건물은 복원된 우정총국입니다. 이곳은 김옥균 등 급진 개화파가 정변을 일으킨 역사의 현장입니다.

**갑신정변**



- ① 교정도감이가 설치되었다.  X
- ② 개혁 정강이 발표되었다.  O
- ③ 강화도 조약이 체결되었다.  X
- ④ 연산군이 왕위에서 물러났다.  X
- ⑤ 연개소문이 권력을 장악하였다.  X

6. 다음 대화에 나타난 시기의 상황으로 옳은 것은? [3점]



- ① 녹읍이 지급되었다 X
- ② 청해진이 설치되었다 X
- ③ 상평통보가 유통되었다. O
- ④ 토지 조사령이 제정되었다 X
- ⑤ 산미 증식 계획이 실시되었다 X

조선 후기

7. 밑줄 친 '이 시기'에 있었던 사실로 옳은 것은?

집에서 만나는 역사 박물관

학교에서 교원이 칼을 차고 제복을 입은 모습입니다. 사진과 같이 이 시기 일제는 이러한 공포 분위기를 교육 현장뿐 아니라 사회 전반에 걸쳐 조성하였습니다. 조선 태형령의 시행이 대표적입니다.

(1910년대 일제강점기)

- ① 화랑도가 개편되었다. X
- ② 임오군란이 발생하였다. X
- ③ 노비안검법이 실시되었다. X
- ④ 훈구와 사림이 대립하였다. X
- ⑤ 헌병 경찰 제도가 시행되었다. O

8. 밑줄 친 '특사단' 파견이 끼친 영향으로 가장 적절한 것은?

나, 이상설은 일본이 국제법을 완전히 무시하고 우리나라와 여러분들 나라의 외교 관계를 무력에 의해 강제로 단절시킨 현장을 목격하였습니다. ... (중략) ... 우리 특사단이 이곳 헤이그에서 열린 만국 평화 회의에 참석하여 일본인들의 만행을 폭로함으로써, 우리나라의 권리를 수호할 수 있도록 여러분들께 중재를 요청하는 바입니다.

헤이그 특사 파견 강제외교

- ① 운요호 사건이 일어났다. X
- ② 고종이 강제로 퇴위되었다. O
- ③ 미국과 외교 관계가 수립되었다. X
- ④ 강화도에서 개항으로 환도가 이루어졌다. X
- ⑤ 후금의 침략으로 정묘호란이 발발하였다. X

9. 밑줄 친 '개혁'의 내용으로 옳은 것은? [3점]

하느님은 우리 황제를 도우사 만수무강하사  
해안의 모래처럼 헤아릴 수 없이 쌓으시고  
위권\*이 멀리 온 세계에 떨치사  
천만세에 기쁨과 즐거움이 날로 새롭게 하소서  
하느님은 우리 황제를 도우소서

\* 위권(威權): 위세와 권력

이 곡은 대한 제국의 애국가입니다. 러시아 공사관에서 돌아온 고종이 근대적 개혁을 추진하던 시기에 이 곡이 만들어졌습니다.



광무개혁

- ① 지계 발급 O
- ② 대학 설치 X
- ③ 전시과 실시 X
- ④ 주자감 운영 X
- ⑤ 독서삼품과 시행 X

10. (가) 전쟁 당시 볼 수 있는 모습으로 가장 적절한 것은?

문학 작품으로 읽은 한국사

들으니 흥의 장군은/왜군을 노루 쫓듯 한다고 하네  
그대를 위해 말하니 끝까지 힘을 다해/곽분양\*처럼 되소서

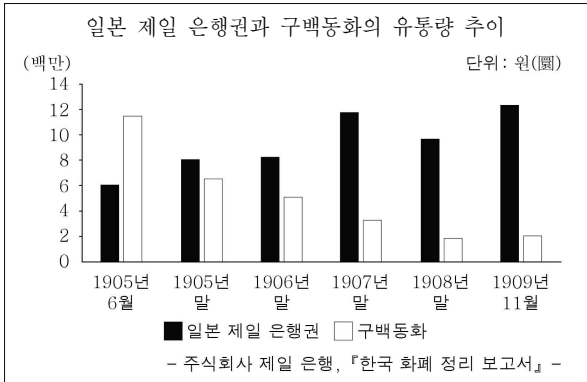
\* 곽분양: 성공과 행복을 상징하는 당 왕조의 인물

[작품 해설]  
이 작품은 (가) 때 의병장으로 활약했던 곽재우를 기리는 시이다. 임진년에 시작된 (가)에서 곽재우는 의령에서 거병하여 여러 차례 왜군을 물리쳤다.

임진왜란

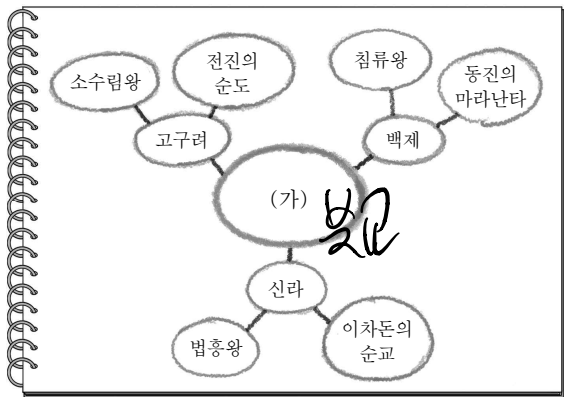
- ① 우산국을 정복하는 이사부 X
- ② 위화도에서 회군하는 이성계 X
- ③ 살수에서 적을 물리치는 을지문덕 X
- ④ 인천 상륙 작전을 지휘하는 맥아더 X
- ⑤ 한산도에서 적의 수군을 공격하는 이순신 O

11. 다음 그래프를 활용한 탐구 활동으로 가장 적절한 것은?



- ① 조청 상민 수륙 무역 장정의 내용을 정리한다. X
- ② 제1차 경제 개발 5개년 계획의 결과를 분석한다. X
- ③ 제2차 석유 파동으로 나타난 경제 상황을 알아본다. X
- ④ 국제 통화 기금에 구제 금융 지원을 요청한 배경을 조사한다. X
- ⑤ 일본이 대한 제국의 금융과 재정을 장악하는 과정을 파악한다. O

12. (가)에 들어갈 내용으로 가장 적절한 것은?



- ① 불교의 수용 O
- ② 도교의 유행 X
- ③ 동학의 확산 X
- ④ 천신 신앙의 출현 X
- ⑤ 풍수지리설의 영향 X

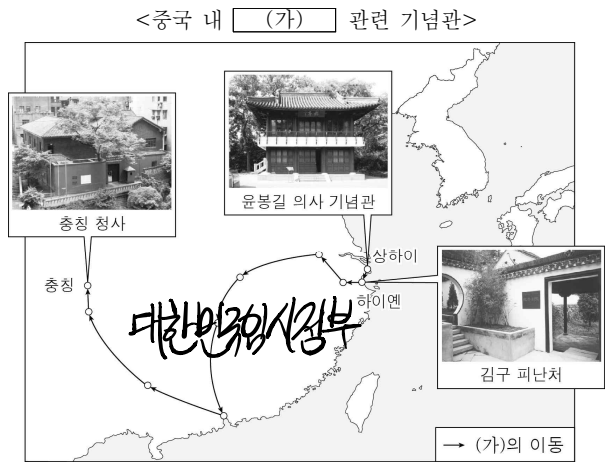
13. 자료에 나타난 민주화 운동에 대한 설명으로 옳은 것은? [3점]

이 땅에서 고문을 영원히 추방하고, 민주 헌법 쟁취를 통한 진정한 민주 정부 수립이라는 전 국민적 의지를 집결한 6·10 국민 대회는 각계각층 전 국민의 성원과 적극적 참여 속에 성공리에 끝났습니다. ... (중략) ... 우리는 앞으로 최후탄 추방 운동을 전 국민과 함께 강력히 전개할 것입니다. 또한 이한열 군의 상태를 예의 주시할 것이며, 적절한 대책을 강구할 것입니다.

**6월 민주항쟁** - 1987년 6월 11일 -

- ① 삼국 통일로 이어졌다. X
- ② 신진 사대부가 주도하였다. X
- ③ 조선책략의 유포에 반발하였다. X
- ④ 대통령 직선제 개헌을 이끌어 냈다. O
- ⑤ '내 살림 내 것으로'라는 구호를 내세웠다. X

14. (가)에 대한 설명으로 옳은 것은? [3점]



- ① 별기군을 창설하였다. X
- ② 6조 직계제를 실시하였다. X
- ③ 국제 보상 운동을 주도하였다. X
- ④ 연통제와 교통국을 운영하였다. O
- ⑤ 집강소를 설치하여 개혁을 추진하였다. X

15. (가) 사건을 알아보기 위한 탐구 주제로 가장 적절한 것은?

특별 전시

**프랑스 군인이 화폭에 담은 (가)**

우리 박물관에서는 (가)에 참전한 프랑스 군인 앙리 쥐베르가 그린 작품들을 전시합니다. 외국인이 바라본 당시 상황을 그림으로 확인할 수 있습니다.

문수산성을 침공하는 프랑스군

외규장각 주변을 행진하는 프랑스군

◎ 기간: 2021년 3월 ○○일 ~ ○○일  
◎ 장소: △△박물관

**병인양요**

- ① 별무반의 활동 X
- ② 서희의 외교 담판 X
- ③ 4군 6진 지역의 개척 X
- ④ 고려의 해동 천하 의식 X
- ⑤ 흥선 대원군의 대외 정책 O

16. (가) 군사 조직에 대한 설명으로 옳은 것은?



- ① 남한산성에서 항전하였다. ~~X~~
- ② 베트남 전쟁에 파병되었다. ~~X~~
- ③ 귀주에서 거란군을 물리쳤다. ~~X~~
- ④ 일부 대원이 한국광복군에 합류하였다.
- ⑤ 처인성 전투에서 몽골군에게 승리를 거두었다. ~~X~~

17. 밑줄 친 '선거'가 실시된 시기를 연표에서 옳게 고른 것은? [3점]

'유권자의 날'을 아십니까?

5월 10일 '유권자의 날'은 우리 역사상 최초의 민주적인 선거가 실시된 날을 기념하여 만들어졌습니다. 당시 선출된 의원들은 제헌 국회를 구성하여 대한민국 헌법을 제정하였고, 반민족 행위 처벌법 등을 만들었습니다.

이날의 의미를 기억하며 민주주의의 꽃인 선거에 적극 참여하여 우리의 소중한 한 표를 행사하도록 합시다.

	(가)	(나)	(다)	<b>(라)</b>	(마)	
--	-----	-----	-----	------------	-----	--

국권	청산리	원산	8·15	5·16	전태일
피탈	전투	총파업	광복	군사 정변	분신 사건

- ① (가)    ② (나)    ③ (다)     (라)    ⑤ (마)

18. (가) 운동에 대한 학생들의 발표 내용으로 가장 적절한 것은? [3점]

3·1 운동 이후 우리 민족의 혁명적 불꽃이 땅속에서 은근히 타오르면서 다시 폭발할 기회만 기다려 왔다. 과연 정성과 꾸준한 노력이 헛되지 아니하여 3·1 운동이 일어난 지 7년째가 되는 해의 순종 인산일에 그 불꽃이 땅위로 다시 폭발하면서 청천벽력과 같은 대한 독립 만세 소리가 일어나니 이것이 곧 (가)이다.

- 신간회의 결성에 영향을 끼쳤어요.
- ② 전민변정도감의 설치로 이어졌어요. ~~X~~
- ③ 갑오개혁이 추진되는 과정에서 일어났어요. ~~X~~
- ④ 정동행성 이문소가 폐지되는 결과를 가져왔어요. ~~X~~
- ⑤ 진골 귀족이 왕위 쟁탈전을 벌이는 배경이 되었어요. ~~X~~

6.10만세운동

19. (가), (나) 사이에 있었던 사실로 옳은 것은?

(가)	(나)
<p style="text-align: center;">한국사신문</p> <p style="text-align: center;"><b>마산에서 시위가 일어나다</b></p> <p>3월 15일 정·부통령 선거 당일 마산에서 부정 선거를 규탄하는 시위가 일어났다.</p>	<p style="text-align: center;">한국사신문</p> <p style="text-align: center;"><b>새 정부가 출범하다</b></p> <p>개정된 헌법에 따라 실시된 총선거에서 민주당이 승리한 후 장면 내각이 성립되었다.</p>

- ① 경국대전이 반포되었다. ~~X~~
- 이승만 대통령이 하야하였다.
- ③ 일본에 수신사가 파견되었다. ~~X~~
- ④ 대동법이 전국적으로 확산되었다. ~~X~~
- ⑤ 묘청이 서경 천도 운동을 전개하였다. ~~X~~

20. (가)에 들어갈 내용으로 옳은 것은? [3점]

<남북 관계 진전을 위한 노력>		No. 1
1985년 -	남북 이산가족 고향 방문단 교환	No. 2
1991년 -	남북 기본 합의서 채택	No. 3
2000년 -	(가)	
2003년 -	개성 공단 착공	

- ① 7·4 남북 공동 성명 발표. ~~X~~
- ② 판문점에서 정전 협정 체결. ~~X~~
- ③ 6·15 남북 공동 선언 발표.
- ④ 제1차 미소 공동 위원회 개최. ~~X~~
- ⑤ 평양에서 제2차 남북 정상 회담 개최. ~~X~~

**\* 확인 사항**

○ 답안지의 해당란에 필요한 내용을 정확히 기입(표기)했는지 확인하십시오.